



SIMULADO DE ARTES

Assinatura do aluno: _____

CPF: _____ - _____

Data: ____/____/____

Polo: _____

1. Questão (Enem-2018)

TEXTO I

Também chamados impressões ou imagens fotogramáticas [...], os fotogramas são, numa definição genérica, imagens realizadas sem a utilização da câmera fotográfica, por contato direto de um objeto ou material com uma superfície fotossensível exposta a uma fonte de luz. Essa técnica, que nasceu junto com a fotografia e serviu de modelo a muitas discussões sobre a ontologia da imagem fotográfica, foi profundamente transformada pelos artistas da vanguarda, nas primeiras décadas do século XX. Representou, ao lado das colagens, fotomontagens e outros procedimentos técnicos, a incorporação definitiva da fotografia à arte moderna e seu distanciamento da representação figurativa.

COLUCCI, M. B. Impressões fotocromáticas e vanguardas: as experiências de Man Ray. *Studium*, n. 2, 2000.

TEXTO II



Ray, Man. Rayografia. 1922. 23,9 x 29,9 cm, MOMA, Nova Iorque

☎ 0800 042 0131

📞 (83) 99861-9278

📧 @educanexus

📍 Avenida Piauí, Nº 75 - Estados
CEP 58030-330 • João Pessoa | PB

🌐 centroeducanexus.com.br

✉ contato@centroeducanexus.com.br

nosso site





No fotograma de Man Ray, o “distanciamento da representação figurativa” a que se refere o Texto I manifesta-se na:

- ressignificação do jogo de luz e sombra, nos moldes surrealistas.
- imposição do acaso sobre a técnica, como crítica à arte realista.
- composição experimental, fragmentada e de contornos difusos.
- abstração radical, voltada para a própria linguagem fotográfica.

2. Questão (Enem-2018)

TEXTO I



GRIMBERG, N. *Estrutura vertical dupla*.

TEXTO II



Urna cerimonial marajoara. Cerâmica. 1400 a 400 a.C. 81 cm.
Museu Nacional do Rio de Janeiro.

As duas imagens são produções que têm a cerâmica como matéria-prima. A obra *Estrutura vertical dupla* se distingue da urna funerária marajoara ao

- evidenciar a simetria na disposição das peças.
- materializar a técnica sem função utilitária.
- abandonar a regularidade na composição.
- anular possibilidades de leituras afetivas.

3. Questão (Enem-2020)

☎ 0800 042 0131

📞 (83) 99861-9278

📧 @educanexus

📍 Avenida Piauí, Nº 75 – Estados
CEP 58030-330 • João Pessoa | PB

🌐 centroeducanexus.com.br

✉ contato@centroeducanexus.com.br

nosso site





KOSUTH J. *One and Three Chairs*. Museu Reina Sofia, Espanha, 1965.
Disponível em: www.museoreinasofia.es. Acesso em: 4 jun. 2018 (adaptado).

A obra de Joseph Kosuth data de 1965 e se constitui por uma fotografia de cadeira, uma cadeira exposta e um quadro com o verbete “Cadeira”. Trata-se de um exemplo de arte conceitual que revela o paradoxo entre verdade e imitação, já que a arte;

- não é a realidade, mas uma representação dela.
- fundamenta-se na repetição, construindo variações.
- Não se define, pois depende da interpretação do fruidor.
- Resiste ao tempo, beneficiada por múltiplas formas de registro.

4. Questão (Enem-2019)

☎ 0800 042 0131

📞 (83) 99861-9278

📧 @educanexus

📍 Avenida Piauí, Nº 75 – Estados
CEP 58030-330 • João Pessoa | PB

🌐 centroeducanexus.com.br

✉ contato@centroeducanexus.com.br

nosso site





PICASSO, P. Cabeça de touro. Bronze, 33,5 cm x 43,5 cm x 19 cm Musée Picasso, Paris. França, 1945

JANSON, H. W. Iniciação à história da arte. São Paulo: Martins Fontes, 1988.

Na obra Cabeça de touro, o material descartado torna-se objeto de arte por meio da

- a) reciclagem da matéria-prima original.
- b) complexidade da combinação de formas abstratas.
- c) perenidade dos elementos que constituem a escultura.
- d) mudança da funcionalidade pela integração dos objetos.

5. Questão (Enem-2021)



LICHTENSTEIN, R. Garota com bola. Óleo sobre tela, 153 cm x 91,9 cm. Museu de Arte Moderna de Nova York, 1961.

Disponível em: www.moma.org. Acesso em: 4 dez. 2018.

☎ 0800 042 0131

📞 (83) 99861-9278

📧 @educanexus

📍 Avenida Piauí, Nº 75 – Estados
CEP 58030-330 • João Pessoa | PB

🌐 centroeducanexus.com.br

✉ contato@centroeducanexus.com.br

nosso site





A obra, da década de 1960, pertencente ao movimento artístico Pop Art, explora a beleza e a sensualidade do corpo feminino em uma situação de divertimento. Historicamente, a sociedade inventou e continua reinventando o corpo como objeto de intervenções sociais, buscando atender aos valores e costumes de cada época.

Na reprodução desses preceitos, a erotização do corpo feminino tem sido constituída pela

- a) Realizações de exercícios físicos sistemáticos e excessivos.
- b) Utilização de medicamentos e produtos estéticos.
- c) Educação do gesto, da vontade e do comportamento.
- d) Construção de espaços para vivência de práticas corporais.

6. Questão (Enem-2021)

O solo *A morte do cisne*, criado em 1905 pelo russo Mikhail Fokine a partir da música do compositor francês Camille Saint-Saens, retrata o último voo de um cisne antes de morrer. Na versão original, uma bailarina com figurino impecavelmente branco e na ponta dos pés interpreta toda a agonia da ave se debatendo até desfalecer.

Em 2012, John Lennon da Silva, de 20 anos, morador do bairro de São Mateus, na Zona Leste de São Paulo, elaborou um novo jeito de dançar a coreografia imortalizada pela bailarina Anna Pavlova. No lugar de um colã e das sapatilhas, vestiu calça jeans, camiseta e tênis. Em vez de balé, trouxe o estilo *poppping da street dance*. Sua apresentação inovadora de *A morte do cisne*, que foi ao ar no programa *Se ela dança, eu danço*, virou hit no YouTube.

Disponível em: www.correiobrasiliense.com.br. Acesso em: 18 jun. 2019 (adaptado).

A forma original de John Lennon da Silva reinterpretar a coreografia de *A morte do cisne* demonstra que

- a) A composição da coreografia foi influenciada pela escolha do figurino.
- b) A criação artística é beneficiada pelo encontro de modelos oriundos de diferentes realidades socioculturais.
- c) A variação entre os modos de dançar uma mesma música evidencia a hierarquia que marca manifestações artísticas.
- d) A formação erudita, à qual o dançarino não teve acesso, resulta em artistas que só conhecem a estética da arte popular.

☎ 0800 042 0131

📞 (83) 99861-9278

📧 @educanexus

📍 Avenida Piauí, Nº 75 – Estados
CEP 58030-330 • João Pessoa | PB

🌐 centroeducanexus.com.br

✉ contato@centroeducanexus.com.br

nosso site





7. Questão (Enem-2020)

TEXTO I

É pau, é pedra, é o fim do caminho
É um resto de toco, é um pouco sozinho
É um caco de vidro, é a vida, é o sol
É a noite, é a morte, é o laço, é o anzol
É peroba-do-campo, é o nó da madeira
Caingá, candeia, é o matita-pereira

TOM JOBIM. Águas de março. O Tom de Jobim e o tal de João Bosco (disco de bolso). Salvador: Zen Produtora, 1972 (fragmento).

TEXTO II

A inspiração súbita e certa do compositor serve ainda de exemplo do lema antigo: nada vem do nada. Para ninguém, nem mesmo para Tom Jobim. Duas fontes são razoavelmente conhecidas. A primeira é o poema O caçador de esmeraldas, do mestre parnasiano Olavo Bilac: “Foi em março, ao findar da chuva, quase à entrada/ do outono, quando a terra em sede requeimada/ bebera longamente as águas da estação [...]”. E a outra é um ponto de macumba, gravado com sucesso por J. B. Carvalho, do Conjunto Tupi: “É pau, é pedra, é seixo miúdo, roda a baiana por cima de tudo”. Combinar Olavo Bilac e macumba já seria bom; mas o que se vê em Águas de março vai muito além: tudo se transforma numa outra coisa e numa outra música, que recompõem o mundo para nós.

NESTROVSKI, A, O samba mais bonito do mundo. In: Três canções de Tom Jobim. São Paulo: Cosac Naify, 2004.

Ao situar a composição no panorama cultural brasileiro, o Texto II destaca o(a)

- a) Diálogo que a letra da canção estabelece com diferentes tradições da cultura nacional.
- b) singularidade com que o compositor converte referências eruditas e populares.
- c) caráter inovador com que o compositor concebe o processo de criação artística.
- d) relativização que a letra da canção promove na concepção tradicional de originalidade.

8. Questão (Enem-2020)

Slam do Corpo é um encontro pensado para surdos e ouvintes, existente desde 2014, em São Paulo. Uma iniciativa pioneira do grupo Corposinalizante, criado em 2008. (Antes de seguirmos, vale a explicação: o termo *slam* vem do inglês e significa — numa nova acepção para o verbo geralmente utilizado para dizer “bater com força” — a “poesia

☎ 0800 042 0131

📞 (83) 99861-9278

📧 @educanexus

📍 Avenida Piauí, Nº 75 – Estados
CEP 58030-330 • João Pessoa | PB

🌐 centroeducanexus.com.br

✉ contato@centroeducanexus.com.br





falada nos ritmos das palavras e da cidade”). Nos saraus, o primeiro objetivo foi o de botar os poemas em Libras na roda, colocar os surdos para circular e entender esse encontro entre a poesia e a língua de sinais, compreender o encontro dessas duas línguas. Poemas de autoria própria, três minutos, um microfone. Sem figurino, nem adereços, nem acompanhamento musical. O que vale é modular a voz e o corpo, um trabalho artesanal de tornar a palavra “visível”, numa arena cujo objetivo maior é o de emocionar a plateia, tirar o público da passividade, seja pelo humor, horror, caos, doçura e outras tantas sensações.

NOVELLI. O. Poesia incorporada. Revista Continente, n. 189. set. 2016 (adaptado).

Na prática artística mencionada no texto, o corpo assume papel de destaque ao articular diferentes linguagens com o intuito de

- a) imprimir ritmo e visibilidade à expressão poética.
- b) redefinir o espaço de circulação da poesia urbana.
- c) estimular produções autorais de usuários de Libras.
- d) traduzir expressões verbais para a língua de sinais.

9. Questão (Enem-2021)

A *balsa de Lampedusa*, nome da obra de Taylor, que abre este post, é uma das instalações criadas por ele para compor o acervo do primeiro museu submarino da Europa, o Museu Atlântico, localizado em Lanzarote, uma das ilhas do arquipélago das Canárias.

Lampedusa é o nome da ilha italiana onde a grande maioria dos refugiados que saem da África ou de países como Síria, Líbano e Iraque, tenta chegar para conseguir asilo no continente europeu.

As esculturas do Museu Atlântico ficam a 14 metros de profundidade, nas águas cristalinas de Lanzarote.

Na balsa, estão dez pessoas. Todas têm no rosto a expressão do abandono. Entre elas, há algumas crianças. Uma delas, uma menina debruçada sobre a beira do bote, olha sem esperança o horizonte. A imagem é tão forte, que dispensa qualquer palavra. Exatamente o papel da arte.

TAYLOR J.C. A balsa de Lampedusa. Instalação Museu Atlântico. Lanzarote, Canárias, 2016 (detalhe).

Além de apresentar ao público a obra *A balsa de Lampedusa*, essa reportagem cumpre, paralelamente, a função de chamar a atenção para

☎ 0800 042 0131

☎ (83) 99861-9278

📧 @educanexus

📍 Avenida Piauí, Nº 75 – Estados
CEP 58030-330 • João Pessoa | PB

🌐 centroeducanexus.com.br

✉ contato@centroeducanexus.com.br

nosso site





- a) a ilha de Lanzarote, localizada no arquipélago das Canárias, com vocação para o turismo.
- b) a arte como perpetuadora de episódios marcantes da humanidade que têm de ser lembrados para que não tornem a acontecer.
- c) a inovação relativa à construção de um museu no fundo do mar, que só pode ser visitado por mergulhadores.
- d) a construção do museu submarino como um memorial para as centenas de imigrantes mortos nas travessias pelo mar.

10. Questão (Enem-2021)



MEIRRELES, V. Moema, Óleo sobre tela, 129 cm x 190 cm. Masp, São Paulo, 1866. Disponível em: www.masp.art.br. Acesso em: 13 ago. 2012 (adaptado).

Nessa obra, que retrata uma cena de *Caramuru*, célebre poema épico brasileiro, a filiação à estética romântica manifesta-se na.

- a) exaltação do retrato fiel da beleza feminina.
- b) tematização da fragilidade humana diante da morte.
- c) ressignificação de obras do cânone literário nacional.
- d) representação dramática e idealizada do corpo da índia.

☎ 0800 042 0131

📞 (83) 99861-9278

📧 @educanexus

📍 Avenida Piauí, Nº 75 – Estados
CEP 58030-330 • João Pessoa | PB

🌐 centroeducanexus.com.br

✉ contato@centroeducanexus.com.br

nosso site





SIMULADO DE BIOLOGIA

Assinatura do aluno: _____

CPF: _____ - _____

Data: ____/____/____

Polo: _____

1. Questão (Enem/2018)

Corredores ecológicos visam mitigar os efeitos da fragmentação dos ecossistemas promovendo a ligação entre diferentes áreas, com o objetivo de proporcionar o deslocamento de animais, a dispersão de sementes e o aumento da cobertura vegetal. São instituídos com base em informações como estudos sobre o deslocamento de espécies, sua área de vida (área necessária para o suprimento de suas necessidades vitais e reprodutivas) e a distribuição de suas populações.

Disponível em: www.mma.gov.br. Acesso em: 30 nov. 2017 (adaptado)

Nessa estratégia, a recuperação da biodiversidade é efetiva porque:

- a) propicia o fluxo gênico.
- b) intensificar o manejo de espécies.
- c) amplia o processo de ocupação humana.
- d) aumenta o número de indivíduos nas populações.

2. Questão (Enem/2018)

Insetos podem apresentar três tipos de desenvolvimento. Um deles, a holometabolia (desenvolvimento completo), é constituído pelas fases de ovo, larva, pupa e adulto sexualmente maduro, que ocupam diversos habitats. Os insetos com holometabolia pertencem às ordens mais numerosas em termos de espécies conhecidas. Esse tipo de desenvolvimento está relacionado a um maior número de espécies em razão da

- a) proteção na fase de pupa, favorecendo a sobrevivência de adultos férteis.
- b) produção de muitos ovos, larvas e pupas, aumentando o número de adultos.
- c) exploração de diferentes nichos, evitando a competição entre as fases da vida.
- d) ingestão de alimentos em todas as fases de vida, garantindo o surgimento do adulto.

☎ 0800 042 0131

📞 (83) 99861-9278

📧 @educanexus

📍 Avenida Piauí, Nº 75 - Estados
CEP 58030-330 • João Pessoa | PB

🌐 centroeducanexus.com.br

✉ contato@centroeducanexus.com.br

nosso site





3. Questão

(Enem-2021)

Durante o desenvolvimento embrionário humano ocorre uma comunicação entre os átrios direito e esquerdo através do forame oval (ou forame de Botão). Essa comunicação não causa prejuízos à circulação do bebê em formação, exceto se ela perdurar após o nascimento.

Os prejuízos no período embrionário são evitados porque a circulação fetal se assemelha à dos(as)

- a) Aves, porque a pequena circulação e a grande circulação estão presentes.
- b) Répteis, porque a mistura de sangue é minimizada por um metabolismo lento.
- c) Crocodilianos, porque a separação dos ventrículos impede a mistura sanguínea.
- d) Peixes, porque a circulação é simples, ocorrendo uma passagem única pelo coração.

4. Questão

(Enem-2021)

Um dos exames clínicos mais tradicionais para medir a capacidade reflexa dos indivíduos é o exame do reflexo patelar. Esse exame consiste na estimulação da patela, um pequeno osso localizado na parte anterior da articulação do joelho, com um pequeno martelo. A resposta reflexa ao estímulo é caracterizada pelo levantamento da perna em que o estímulo foi aplicado.

Qual região específica do sistema nervoso coordena essa resposta?

- a) Ponte
- b) Medula
- c) Cerebelo
- d) Hipotálamo

5. Questão

(Enem-2018)

O deserto é um bioma que se localiza em regiões de pouca umidade. A fauna é, predominantemente, composta por animais roedores, aves, répteis e artrópodes.

Uma adaptação, associada a esse bioma, presente nos seres vivos dos grupos citados é o(a):

- a) existência de numerosas glândulas sudoríparas na epiderme.
- b) eliminação de excretas nitrogenadas de forma concentrada.
- c) desenvolvimento do embrião no interior de ovo com casca.

☎ 0800 042 0131

☎ (83) 99861-9278

📧 @educanexus

📍 Avenida Piauí, Nº 75 - Estados
CEP 58030-330 • João Pessoa | PB

🌐 centroeducanexus.com.br

✉ contato@centroeducanexus.com.br

nosso site





- d) capacidade de controlar a temperatura corporal.
- e) respiração realizada por pulmões foliáceos.

6. Questão
(Enem-2021)

Os búfalos são animais considerados rústicos pelos criadores e, por isso, são deixados no campo sem controle reprodutivo. Por causa desse tipo de criação, a consanguinidade é favorecida, proporcionando o aparecimento de enfermidades, como o albinismo, defeitos cardíacos, entre outros. Separar os animais de forma adequada minimizaria a ocorrência desses problemas.

DAMÉ, M. C. F.; RIET-CORREA, F.; SCHILD, A. L. *Pesq. Vet. Bras.*, n. 7, 2013 (adaptado).

Qual procedimento biotecnológico prévio é recomendado nessa situação?

- a) Mapeamento genético.
- b) Terapia gênica.
- c) Vacina de DNA.
- d) Clonagem terapêutica.

7. Questão
(Enem-2019)

A utilização de extratos de origem natural tem recebido a atenção de pesquisadores em todo o mundo, principalmente nos países em desenvolvimento que são altamente acometidos por doenças infecciosas e parasitárias. Um bom exemplo dessa utilização são os produtos de origem botânica que combatem insetos.

O uso desses produtos pode auxiliar no controle da:

- a) esquistossomose.
- b) leptospirose.
- c) leishmaniose.
- d) hanseníase.

8. Questão
(Enem-2019)

As fêmeas do mosquito da dengue, *Aedes aegypti*, têm um olfato extremamente refinado. Além de identificar as coleções de águas para oviposição, elas são capazes de detectar de forma precisa e eficaz a presença humana pela interpretação de moléculas de odor eliminadas durante a sudorese. Após perceber o indivíduo, voam rapidamente em direção

☎ 0800 042 0131

📞 (83) 99861-9278

📧 @educanexus

📍 Avenida Piauí, Nº 75 - Estados
CEP 58030-330 • João Pessoa | PB

🌐 centroeducanexus.com.br

✉ contato@centroeducanexus.com.br





à fonte alimentar, iniciando o repasto sanguíneo durante o qual podem transmitir o vírus da dengue. Portanto, o olfato desempenha um papel importante para a sobrevivência dessa espécie.

GUIDOBALDI, F.; MAY-CONCHA, I. J.; GUERENSTEIN, P. G. Morphology and Physiology of the Olfactory System of Blood-Feeding Insects. **Journal of Physiology-Paris**, n. 2-3, abr.-jun. 2014 (adaptado).

Medidas que interferem na localização do hospedeiro pelo vetor por meio dessa modalidade sensorial incluem a

- a) Colocação de telas nas janelas.
- b) Eliminação de locais de oviposição.
- c) Instalação de borrifadores de água em locais abertos.
- d) Utilização de cremes ou pomadas com princípios ativos.

9. Questão (Enem-2019)

O Mangue é composto por três tipos de árvores (*Rhizophora mangle* — mangue-bravo ou vermelho, *Avicennia schaueriana* — mangue-seriba, e *Laguncularia racemosa* — mangue-branco). Uma característica morfológica comum aos três tipos de árvores encontradas no mangue está relacionada à pouca disponibilidade de oxigênio encontrado em seu solo.

ALVES, J. R. P. (Org.). **Manguezais: educar para proteger**. Rio de Janeiro: Femar; Semads, 2001 (adaptado).

A característica morfológica de valor adaptativo referenciada no texto é a

- a) presença de pneumatóforos.
- b) ausência de estômatos.
- c) presença de folhas largas
- d) presença de raízes-escoras.

10. Questão

A terapia celular tem sido amplamente divulgada como revolucionária, por emitir a regeneração de tecidos a partir de células novas. Entretanto, a técnica de se introduzirem novas células em um tecido, para o tratamento de enfermidades em indivíduos, já era aplicada rotineiramente em hospitais. A que técnica se refere o texto?

- a) vacina.
- b) biópsia.
- c) transfusão de sangue.
- d) quimioterapia.

☎ 0800 042 0131

📞 (83) 99861-9278

📧 @educanexus

📍 Avenida Piauí, Nº 75 – Estados
CEP 58030-330 • João Pessoa | PB

🌐 centroeducanexus.com.br

✉ contato@centroeducanexus.com.br

nosso site





SIMULADO DE FILOSOFIA

Assinatura do aluno: _____

CPF: _____ - _____

Data: ____/____/____

Polo: _____

1. Questão (Enem/2018)

Quando analisamos nossos pensamentos ou ideias, por mais complexos e sublimes que sejam, sempre descobrimos que se resolvem em ideias simples que são cópias de uma sensação ou sentimento anterior. Mesmo as ideias que, à primeira vista, parecem mais afastadas dessa origem mostram, a um exame mais atento, ser derivadas dela.

HUME, D. **Investigação sobre o entendimento humano**. São Paulo: Abril Cultural, 1973.

Depreende-se deste excerto da obra de Hume que o conhecimento tem a sua gênese na

- a) Convicção inata.
- b) Dimensão apriorística.
- c) Elaboração do Intelecto
- d) Percepção dos Sentidos.

2. Questão (Enem/2018)

Jamais deixou de haver sangue, martírio e sacrifício, quando o homem sentiu a necessidade de criar em si uma memória; os mais horrendos sacrifícios e penhores, as mais repugnantes mutilações (as castrações, por exemplo), os mais cruéis rituais, tudo isto tem origem naquele instinto que divisou na dor o mais poderoso auxiliar da memória.

NIETZSCHE, F. **Genealogia da moral**. São Paulo: Cia. das Letras, 1999.

- a) Racionalidade científica.
- b) Determinismo biológico.
- c) Consciência da existência.
- d) Domínio da contingência.

3. Questão (Enem/2019)

A importância do conhecimento está em seu uso, em nosso domínio ativo sobre ele, quero dizer, reside na sabedoria. É convencional falar em mero conhecimento, separado da sabedoria, como capaz de inculcar uma dignidade peculiar a seu possuidor. Não

☎ 0800 042 0131

☎ (83) 99861-9278

📧 @educanexus

📍 Avenida Piauí, Nº 75 - Estados
CEP 58030-330 • João Pessoa | PB

🌐 centroeducanexus.com.br

✉ contato@centroeducanexus.com.br





compartilho dessa reverência pelo conhecimento como tal. Tudo depende de quem possui o conhecimento e do uso que faz dele.

WHITHEHEAD, A. N. **Os fins da educação e outros ensaios**. São Paulo: Edusp, 1969.

No trecho, o autor considera que o conhecimento traz possibilidades de progresso material e moral quando

- a) Prioriza o rigor conceitual
- b) Valoriza os seus dogmas.
- c) Avalia a sua aplicabilidade
- d) Busca a Inovação Tecnológica

4. Questão (Enem/2019)

TEXTO I

Eu queria movimento e não um curso calmo da existência. Queria excitação e perigo e a oportunidade de sacrificar-me por meu amor. Sentia em mim uma superabundância de energia que não encontrava escoadouro em nossa vida. TOLSTÓI, L. Felicidade familiar.

Apud KRAKAUER, J. **Na natureza selvagem**. São Paulo: Cia. das Letras, 1998.

TEXTO II

Meu Lema me obrigava, mais que a qualquer outro homem, a um enunciado mais exato da verdade; não sendo suficiente que eu lhe sacrificasse em tudo o meu interesse e as minhas simpatias, era preciso sacrificar-lhe também minha fraqueza e minha natureza tímida. Era preciso ter a coragem e a força de ser sempre verdadeiro em todas as ocasiões.

ROUSSEAU, J.-J. **Os devaneios do caminhante solitário**. Porto Alegre: L&PM, 2009.

Os textos de Tolstói e Rousseau retratam ideais da existência humana e defendem uma experiência

- a) Lógico-racional, focada na objetividade, clareza e imparcialidade.
- b) Místico-religiosa, ligada à sacralidade, elevação e espiritualidade.
- c) Estético-romântica, caracterizada por sinceridade, vitalidade e impulsividade.
- d) Naturalista-científica, marcada pela experimentação, análise e explicação.

5. Questão (Enem/2019)

☎ 0800 042 0131

☎ (83) 99861-9278

📧 @educanexus

📍 Avenida Piauí, Nº 75 – Estados
CEP 58030-330 • João Pessoa | PB

🌐 centroeducanexus.com.br

✉ contato@centroeducanexus.com.br

nosso site





Sócrates: "Quem não sabe o que uma coisa é, como poderia saber de que tipo de coisa ele é? Ou te parece ser possível alguém que não conhece absolutamente quem é Mênon, esse alguém saber se ele é belo, se é rico e ainda se é nobre? Parece-te ser isso possível? Assim, Mênon, que coisa afirmas ser a virtude?"

PLATÃO. **Mênon**. Rio de Janeiro: PUC-Rio; São Paulo: Loyola, 2001 (adaptado).

A atitude apresentada na interlocução do filósofo com Mênon é um exemplo da utilização do(a)

- a) Escrita Epistolar
- b) Método Dialético
- c) Linguagem Trágica.
- d) Explicação Fisicalista

6. Questão
(Enem/2021)

No Semiárido brasileiro, o sertanejo desenvolveu uma acuidade detalhada para a observação dos fenômenos, ao longo dos tempos, presenciados na natureza, em especial para a previsão do tempo e do clima, utilizando como referência a posição dos astros, constelações e nuvens. Conforme os sertanejos, a estação vai ser chuvosa quando a primeira lua cheia de janeiro "sair vermelha, por detrás de uma barra de nuvens", mas "se surgir prateada, é sinal de seca".

MAIA, D.; MAIA, A. C. A utilização dos ditos populares e da observação do tempo para a climatologia escolar no ensino fundamental II. **GeoTextos**, n. 1, JUL. 2010 (adaptado).

- a) Técnica Científica
- b) Experiência Perceptiva
- c) Negação das tradições
- d) Padronização das culturas

7. Questão
(Enem/2021)

Dizem que Humboldt, naturalista do século XIX, maravilhado pela geografia, flora e fauna da região sul-americana, via seus habitantes como se fossem mendigos sentados sobre um saco de ouro, referindo-se a suas incomensuráveis riquezas naturais não exploradas. De alguma maneira, o cientista ratificou nosso papel de exportadores de natureza no que seria o mundo depois da colonização ibérica: enxergou-nos como territórios condenados a aproveitar os recursos naturais existentes.

ACOSTA, A. **Bem viver**: uma oportunidade para imaginar outros mundos. São Paulo: Elefante, 2016 (adaptado).

☎ 0800 042 0131

☎ (83) 99861-9278

📧 @educanexus

📍 Avenida Piauí, Nº 75 – Estados
CEP 58030-330 • João Pessoa | PB

🌐 centroeducanexus.com.br

✉ contato@centroeducanexus.com.br

nosso site





A relação entre ser humano e natureza ressaltada no texto refletia a permanência da seguinte corrente filosófica;

- a) Relativismo cognitivo
- b) Materialismo dialético
- c) Racionalismo Cartesiano
- d) Pluralismo Epistemológico

8. Questão
(Enem/2019)

A Filosofia é como uma árvore, cujas raízes são a metafísica; o tronco, a física, e os ramos que saem do tronco são todas as outras ciências, que se reduzem a três principais: a medicina, a mecânica e a moral, entendendo por moral a mais elevada e a mais perfeita porque pressupõe um saber integral das outras ciências, e é o último grau de sabedoria.

DESCARTES, R. **Princípios da filosofia**. Lisboa: Edições 70, 1997 (adaptado).

Essa Construção alegórica de Descartes, acerca da condição epistemológica da filosofia, tem como objetivo

- a) Sustentar a unidade essencial do conhecimento.
- b) Refutar o elemento fundamental das crenças.
- c) Impulsionar o pensamento especulativo.
- d) Recepcionar o método experimental.

9. Questão
(Enem/2021)

Em *A morte de Ivan Ilitch*, Tolstoi descreve com detalhes repulsivos o terror de encarar a morte iminente. Ilitch adoece depois de um pequeno acidente e logo compreende que se encaminha para o fim de modo impossível de parar. "Nas profundezas de seu coração, ele sabia estar morrendo, mas em vez de se acostumar com a ideia, simplesmente não o fazia e não conseguia compreendê-la".

KAZEZ, J. **O peso das coisas**: filosofia para o bem-viver. Rio de Janeiro; Tinta Negra, 2004.

O Texto descreve a experiência do personagem de Tolstoi diante de um aspecto incontornável de nossas vidas. Esse aspecto foi um tema central na tradição filosófica

- a) Marxista, no contexto do materialismo histórico.
- b) Logicista, no propósito de entendimento dos fatos.
- c) Utilitarista, no sentido da racionalidade das ações.
- d) Existencialista, na questão do reconhecimento de si.

☎ 0800 042 0131

📞 (83) 99861-9278

📧 @educanexus

📍 Avenida Piauí, Nº 75 – Estados
CEP 58030-330 • João Pessoa | PB

🌐 centroeducanexus.com.br

✉ contato@centroeducanexus.com.br

nosso site





10. Questão
(Enem/2020)

Adão, ainda que supuséssemos que suas faculdades racionais fossem inteiramente perfeitas desde o início, não poderia ter inferido da fluidez e transparência da água que ela o sufocaria, nem da luminosidade e calor do fogo que este poderia consumi-lo. Nenhum objeto jamais revela, pelas qualidades que aparecem aos sentidos, nem as causas que o produziram, nem os efeitos que dele provêm; e tampouco nossa razão é capaz de extrair, sem auxílio da experiência, qualquer conclusão referente à existência afetiva de coisas ou questões de fato.

HUME, D. **Uma investigação sobre o entendimento humano**. São Paulo. Unesp, 2003.

Segundo o autor, qual é a origem do conhecimento humano?

- a) A potência inata da mente.
- b) A revelação da inspiração divina.
- c) O estudo das tradições filosóficas.
- d) A vivência dos fenômenos do mundo.

☎ 0800 042 0131

📞 (83) 99861-9278

📧 @educanexus

📍 Avenida Piauí, Nº 75 – Estados
CEP 58030-330 • João Pessoa | PB

🌐 centroeducanexus.com.br

✉ contato@centroeducanexus.com.br

nosso site





SIMULADO DE FÍSICA

Assinatura do aluno: _____

CPF: _____ - _____

Data: ____/____/____

Polo: _____

1. Questão (Enem/2021)

O alcoolômetro Gay Lussac é um instrumento destinado a medir o teor de álcool, em percentagem de volume (v/v), de soluções de água e álcool na faixa de 0 °GL a 100 °GL, com divisões de 0,1 °GL. A concepção do alcoolômetro se baseia no princípio de flutuabilidade de Arquimedes, semelhante ao funcionamento de um densímetro. A escala do instrumento é aferida a 20 °C, sendo necessária a correção da medida, caso a temperatura da solução não esteja na temperatura de aferição. É apresentada parte da tabela de correção de um alcoolômetro, com a temperatura.

Tabela de correção do alcoolômetro com temperatura 20 °C						
°GL	Leitura da temperatura (°C)					
	20	21	22	23	24	25
35	35,0	34,6	34,2	33,8	33,4	33,0
36	36,0	35,6	35,2	34,8	34,4	34,0

Manual alcoolômetro Gay Lussac. Disponível em: www.incoterm.com.br. Acesso em: 4 dez. 2018 (adaptado).

É necessária a correção da medida do instrumento, pois um aumento na temperatura promove o(a)

- aumento da dissociação da água.
- aumento da densidade da água e do álcool.
- mudança do volume dos materiais por dilatação.
- alteração das propriedades químicas da mistura álcool e água.

2. Questão (Enem/2021)

☎ 0800 042 0131

📞 (83) 99861-9278

📧 @educanexus

📍 Avenida Piauí, Nº 75 - Estados
CEP 58030-330 • João Pessoa | PB

🌐 centroeducanexus.com.br

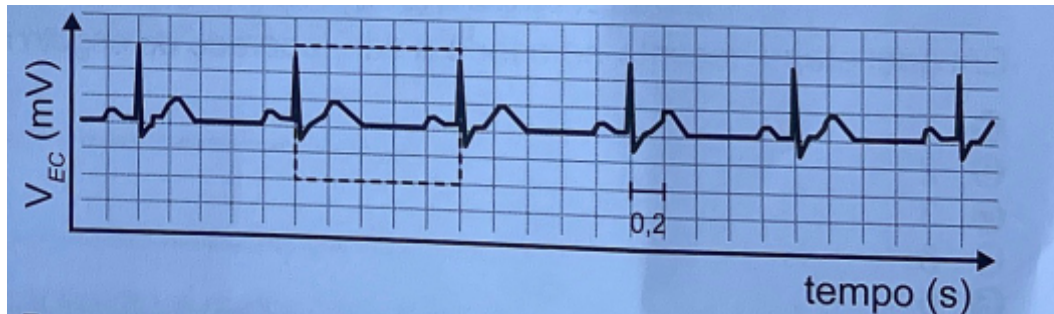
✉ contato@centroeducanexus.com.br

nosso site





O Eletro eletrocardiograma é um exame cardíaco que mede a intensidade dos sinais elétricos advindos do coração. A imagem apresenta o resultado típico obtido em um paciente saudável e a intensidade do sinal (V_{EC}) em função do tempo.

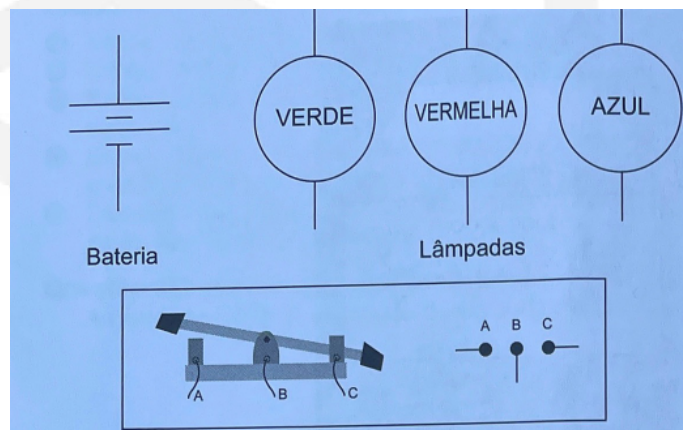


De acordo com o eletrocardiograma apresentado, qual foi o número de batimentos cardíacos por minuto desse paciente durante o exame.

- a) 30
- b) 60
- c) 100
- d) 120

3. Questão (Enem/2021)

Um garoto precisa montar um circuito que acenda três lâmpadas de cores diferentes, uma de cada vez. Ele dispõe das lâmpadas, de fios, uma bateria e dois interruptores, como ilustrado, junto com seu símbolo de três pontos. Quando esse interruptor fecha AB, abre BC e vice-versa.



O garoto fez cinco circuitos elétricos usando os dois interruptores, mas apenas um satisfaz a sua necessidade. Esse circuito é representado por

☎ 0800 042 0131

📞 (83) 99861-9278

📧 @educanexus

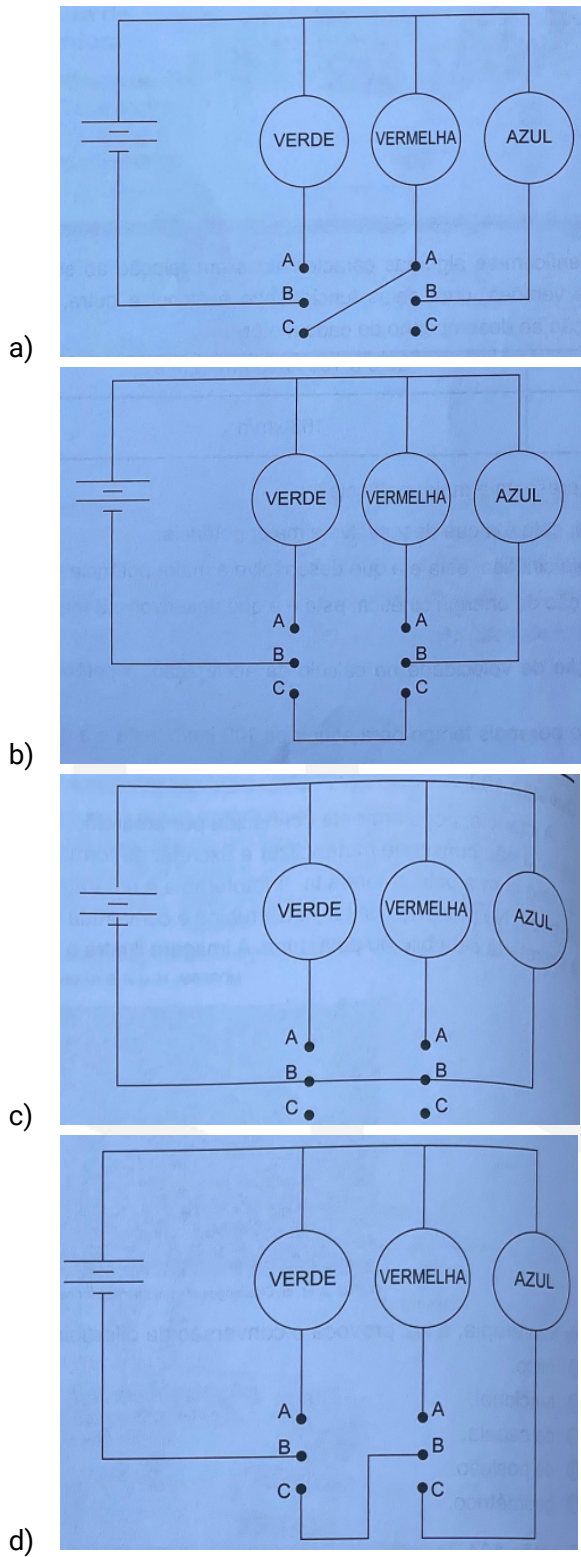
📍 Avenida Piauí, Nº 75 - Estados
CEP 58030-330 • João Pessoa | PB

🌐 centroeducanexus.com.br

✉ contato@centroeducanexus.com.br

nosso site





☎ 0800 042 0131

📞 (83) 99861-9278

📧 @educanexus

📍 Avenida Piauí, Nº 75 - Estados
CEP 58030-330 • João Pessoa | PB

🌐 centroeducanexus.com.br

✉ contato@centroeducanexus.com.br

nosso site

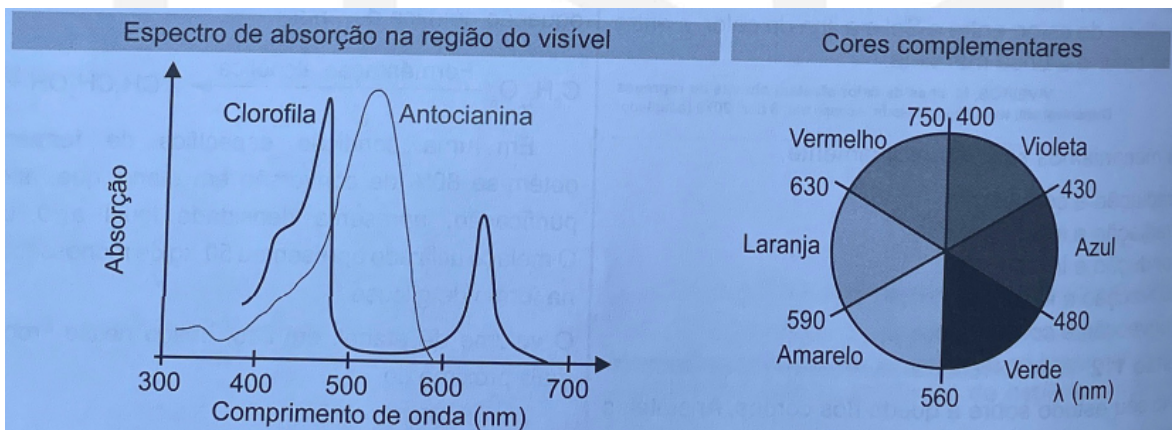




4. Questão (Enem/2021)

No outono, as folhas das árvores mudam de cor, de verde para tons de amarelo, castanho, laranja e vermelho. A cor verde das folhas deve-se ao pigmento clorofila. Nas plantas de folhas caducas, a produção de clorofila diminui e o tom verde desvanece, permitindo assim que outros pigmentos, como o caroteno, de coloração amarelo-alaranjado, e a antocianina, de tons avermelhados, passem a dominar a tonalidade das folhas. A coloração observada se dá em função da interação desses pigmentos com a radiação solar.

Conforme apresentado no espectro de absorção, as moléculas de clorofila absorvem a radiação solar nas regiões do azul e do vermelho, assim a luz refletida pelas folhas tem falta desses dois tons e as vemos na cor verde. Já as antocianinas absorvem a luz desde o azul até o verde. Nesse caso, a luz refletida pelas folhas que contêm antocianinas aparece conforme as cores complementares, ou seja, vermelho-alaranjado.



Disponível em: <https://vidauniversoydemas.wordpress.com>. Acesso em: 6 dez. 2017 (adaptado).

Em qual faixa do espectro visível os carotenos absorvem majoritariamente?

- Entre o violeta e o azul.
- Entre o azul e o verde
- Entre o verde e o Amarelo
- Entre o Amarelo e o Laranja

5. Questão (Enem/2020)

Em uma usina geradora de energia elétrica, seja através de uma queda-d'água ou através de vapor sob pressão, as pás do gerador são postas a girar. O movimento relativo de um ímã em relação a um conjunto de bobinas produz um fluxo magnético variável através delas, gerando uma diferença de potencial em seus terminais. Durante o funcionamento de um dos geradores, o operador da usina percebeu que houve um aumento inesperado da diferença de potencial elétrico nos terminais das bobinas.

☎ 0800 042 0131

☎ (83) 99861-9278

📧 @educanexus

📍 Avenida Piauí, Nº 75 - Estados
CEP 58030-330 • João Pessoa | PB

🌐 centroeducanexus.com.br

✉ contato@centroeducanexus.com.br

nosso site





Nessa situação, o aumento do módulo da diferença de potencial obtida nos terminais das bobinas resulta do aumento do(a)

- a) Intervalo de tempo em que as bobinas ficam imersas no campo magnético externo, por meio de uma diminuição de velocidade no eixo de rotação do gerador.
- b) Fluxo magnético através das bobinas, por meio de um aumento em sua área interna exposta ao campo magnético aplicado.
- c) Intensidade do campo magnético no qual as bobinas estão imersas, por meio de aplicação de campos magnéticos mais intensos.
- d) Rapidez com que o fluxo magnético varia através das bobinas, por meio de um aumento em sua velocidade angular.

6. Questão (Enem/2020)

As panelas de pressão reduzem o tempo de cozimento dos alimentos por elevar a temperatura de ebulição da água. Os usuários conhecedores do utensílio normalmente baixam a intensidade do fogo em panelas de pressão após essas iniciarem a saída dos vapores.

Após abaixar o fogo, reduz-se a chama, pois assim evita-se o(a)

- a) aumento da pressão interna e os riscos de explosão.
- b) dilatação da panela e a desconexão com sua tampa.
- c) perda da qualidade nutritiva do alimento.
- d) consumo de gás desnecessário.

7. Questão (Enem/2020)

Os fones de ouvido tradicionais transmitem a música diretamente para nossos ouvidos. Já os modelos dotados de tecnologia redutora de ruído - Cancelamento de Ruído (CR) - além de transmitirem música, também reduzem todo ruído inconsistente à nossa volta como o barulho de turbinas de avião e aspiradores de pó. Os fones de ouvido CR não reduzem realmente barulhos irregulares como discursos e choros de bebês. Mesmo assim, a supressão do ronco das turbinas do avião contribui para reduzir a "fadiga de ruído", um cansaço persistente provocado pela exposição a um barulho alto por horas a fio. Esses aparelhos também permitem que nós ouçamos músicas ou assistimos a vídeos no trem ou no avião a um volume muito menor (e mais seguro).

Disponível em: <http://tecnologia.uol.com.br>. Acesso em: 21 abr. 2015. (adaptado).

A tecnologia redutora de ruído CR utilizada na produção de fones de ouvido baseia-se em qual fenômeno ondulatório?

☎ 0800 042 0131

📞 (83) 99861-9278

📧 @educanexus

📍 Avenida Piauí, Nº 75 - Estados
CEP 58030-330 • João Pessoa | PB

🌐 centroeducanexus.com.br

✉ contato@centroeducanexus.com.br


nosso site





- a) Absorção
- b) Interferência
- c) Polarização
- d) Reflexão

8. Questão (Enem/2020)



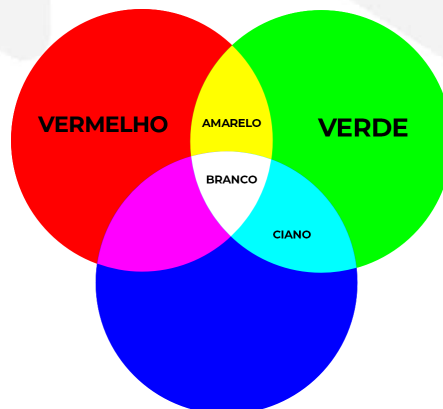
DAVIS, J. Disponível em: <http://garfield.com>. Acesso em: 10 fev. 2015.

Por qual motivo ocorre a eletrização ilustrada na tirinha?

- a) Troca de átomos entre a calça e os pelos do gato.
- b) Diminuição do número de prótons nos pelos do gato.
- c) Criação de novas partículas eletrizadas nos pelos do gato.
- d) Movimentação de elétrons entre a calça e os pelos do gato.

9. Questão (Enem/2020)

Os olhos humanos normalmente têm três tipos de cones responsáveis pela percepção das cores: um tipo para tons vermelhos, um para tons azuis e outro para tons verdes. As diversas cores que enxergamos são o resultado da percepção das cores básicas, como indica a figura.



☎ 0800 042 0131

📞 (83) 99861-9278

📧 @educanexus

📍 Avenida Piauí, Nº 75 - Estados
CEP 58030-330 • João Pessoa | PB

🌐 centroeducanexus.com.br

✉ contato@centroeducanexus.com.br

nosso site





A protanopia é um tipo de daltonismo em que há diminuição ou ausência de receptores da cor vermelha. Considere um teste com dois voluntários: uma pessoa com visão normal e outra com caso severo de protanopia. Nesse teste, eles devem escrever a cor dos cartões que lhes são mostrados. São utilizadas as cores indicadas na figura.

Para qual cartão os dois voluntários identificaram a mesma cor?

- a) Azul
- b) Vermelho
- c) Magenta
- d) Amarelo

10. Questão (Enem/2020)

Em qualquer obra de construção civil é fundamental a utilização de equipamentos de proteção individual, tal como capacetes. Por exemplo, a queda livre de um tijolo de massa 2,5 kg de uma altura de 5m, cujo impacto contra um capacete pode durar até 0,5 s, resulta em uma força impulsiva média maior do que o peso do tijolo. Suponha que a aceleração gravitacional seja 10ms^{-2} e que o efeito da resistência do ar seja desprezível

A força impulsiva média gerada por esse impacto equivale ao peso de quantos tijolos iguais:

- a) 2
- b) 5
- c) 10
- d) 20

☎ 0800 042 0131

📞 (83) 99861-9278

📧 @educanexus

📍 Avenida Piauí, Nº 75 - Estados
CEP 58030-330 • João Pessoa | PB

🌐 centroeducanexus.com.br

✉ contato@centroeducanexus.com.br

nosso site





SIMULADO DE GEOGRAFIA

Assinatura do aluno: _____

CPF: _____ - _____

Data: ____/____/____

Polo: _____

1. Questão (Enem/2018)

Em Beirute, no Líbano, quando perguntado sobre onde se encontram os refugiados sírios, a resposta do homem é imediata: “em todos os lugares e em lugar nenhum”. Andando ao acaso, não é raro ver, sob um prédio ou num canto de calçada, ao abrigo do vento, uma família refugiada em volta de uma refeição frugal posta sobre jornais como se fossem guardanapos. Também se vê de vez em quando uma tenda com a sigla ACNUR (Alto Comissariado das Nações Unidas para Refugiados), erguida em um dos raros terrenos vagos da capital.

JABER, H. Quem realmente acolhe os refugiados? Le Monde Diplomatique Brasil, out.2015 (adaptado).

O cenário descrito aponta para uma crise humanitária que é explicada pelo processo de

- a) Migração massiva de pessoas atingidas por catástrofe natural.
- b) Hibridização cultural de grupos caracterizados por homogeneidade social.
- c) Desterritorialização forçada de populações afetadas por conflitos armados.
- d) Peregrinações religiosas de fiéis orientados por lideranças fundamentalistas.

2. Questão (Enem/2018)

TEXTO I

Há mais de duas décadas, os cientistas e ambientalistas têm alertado para o fato de a água doce ser um recurso escasso em nosso planeta. Desde o começo de 2014, o Sudeste do Brasil adquiriu uma clara percepção dessa realidade em função da seca.

TEXTO II

Dinâmicas atmosféricas no Brasil

Elementos relevantes ao transporte de umidade na América do Sul a leste dos Andes pelos Jatos de Baixos Níveis (JBN), Frentes Frias (FF) e transporte de umidade do Atlântico Sul, assim como a presença da Zona de Convergência do Atlântico Sul (ZCAS), para um

☎ 0800 042 0131

☎ (83) 99861-9278

📧 @educanexus

📍 Avenida Piauí, Nº 75 - Estados
CEP 58030-330 • João Pessoa | PB

🌐 centroeducanexus.com.br

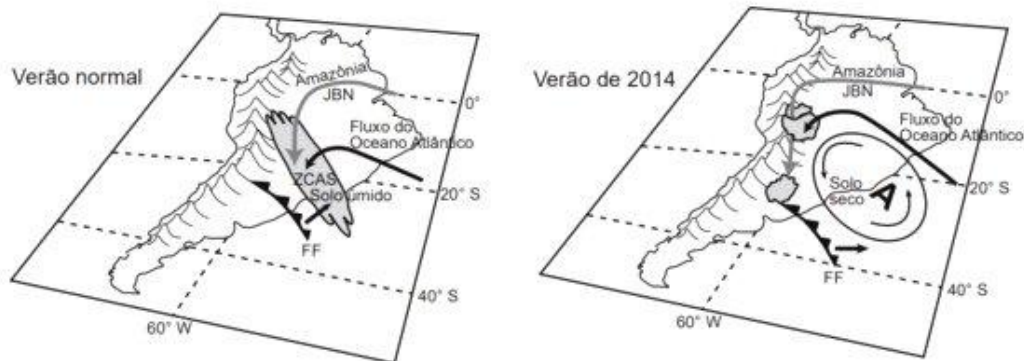
✉ contato@centroeducanexus.com.br

nosso site





verão normal e para o verão seco de 2014. “A” representa o centro da anomalia de alta pressão atmosférica.



MARENGO, J. A. et al. A seca e a crise hídrica de 2014-2015 em São Paulo. *Revista USP*, n. 106, 2015 (adaptado).

De acordo com as informações apresentadas, a seca de 2014, no Sudeste, teve como causa natural o(a)

- Constituição de frentes quentes barrando as chuvas convectivas.
- Formação de anticiclone impedindo a entrada de umidade.
- Presença de nebulosidade na região de cordilheira.
- Avanço de massas polares para o continente.

3. Questão (Enem/2018)

Os países industriais adotaram uma concepção diferente das relações familiares e do lugar da fecundidade na vida familiar e social. A preocupação de garantir uma transmissão integral das vantagens econômicas e sociais adquiridas tem como resultado uma ação voluntária de limitação do número de nascimentos.

GEORGE, P. Panorama do mundo atual. São Paulo: Difusão Europeia do Livro, 1968 (adaptado).

Em meados do século XX, o fenômeno social descrito contribuiu para o processo europeu de

- Estabilização da pirâmide etária.
- Conclusão da transição demográfica.
- Contenção da entrada de imigrantes.
- Elevação do crescimento vegetativo.

☎ 0800 042 0131

☎ (83) 99861-9278

@educanexus

📍 Avenida Piauí, Nº 75 – Estados
CEP 58030-330 • João Pessoa | PB

🌐 centroeducanexus.com.br

✉ contato@centroeducanexus.com.br

nosso site





4. Questão (Enem/2021)

As grandes empresas seriam, certamente, representação de um exercício de poder, ante o grau de autonomia de ação de que dispõem. O que se pretende salientar é a ideia de enclave: plantas industriais que estabelecem relações escassas com o entorno, mas exercem grande influência na economia extra local.

DAVIDOVICH, F. Estado do Rio de Janeiro: o urbano metropolitano. Hipóteses e questões. **GeoUERJ**, n. 21, 2010.

Que tipo de ação tomada por empresas reflete a forma de territorialização da produção industrial apresentada no texto?

- a) Importação de mão de obra qualificada.
- b) Incorporação de saberes tradicionais.
- c) Recuperação de áreas degradadas.
- d) Promoção de eventos comunitários.

5. Questão (Enem/2021)

Desde os primórdios da formação da crosta terrestre até os dias de hoje, as rochas formadas vêm sendo continuamente destruídas. Os produtos resultantes da destruição das rochas são transportados pela água, vento e gelo a toda superfície terrestre, acionados pelo calor e pela gravidade. Cessada a energia transportadora, são depositados nas regiões mais baixas da crosta, podendo formar pacotes rochosos.

LEINZ, V. **Geologia geral**. São Paulo: Editora Nacional, 1989.

As transformações na superfície terrestre, conforme descritas no texto, compõem o seguinte processo geomorfológico:

- a) Ciclo sedimentar.
- b) Instabilidade sísmica.
- c) Intemperismo biológico.
- d) Derramamento basáltico

6. Questão (Enem/2021)

Um estudante leu em um site da internet que os povos antigos determinavam a duração das estações do ano observando a variação do tamanho da sombra de uma haste vertical projetada no solo. Isso ocorria porque, se registrarmos o tamanho da menor sombra ao longo de um dia (ao meio-dia solar), esse valor varia ao longo do ano, o que permitiu aos antigos usar esse instrumento rudimentar como um calendário solar primitivo. O

☎ 0800 042 0131

☎ (83) 99861-9278

📧 @educanexus

📍 Avenida Piauí, Nº 75 – Estados
CEP 58030-330 • João Pessoa | PB

🌐 centroeducanexus.com.br

✉ contato@centroeducanexus.com.br

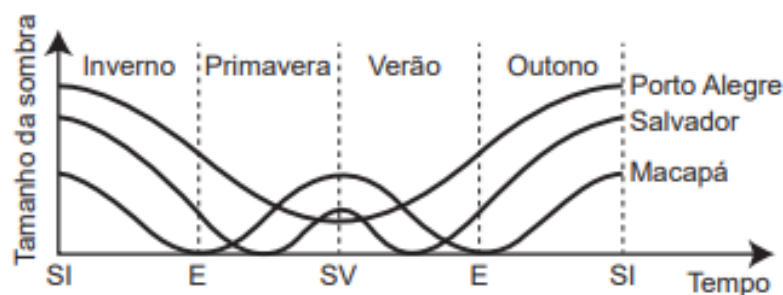
nosso site





estudante também leu que, ao longo de um ano (sempre ao meio-dia solar): (I) a sombra é máxima no solstício de inverno; e (II) a sombra é mínima no solstício de verão.

O estudante, que morava em Macapá (na Linha do Equador), ficou intrigado com essas afirmações e resolveu verificar se elas eram verdadeiras em diferentes regiões do mundo. Contactou seus amigos virtuais em Salvador (Região Tropical) e Porto Alegre (Região Temperada) e pediu que eles registrassem o tamanho da menor sombra de uma haste vertical padronizada, ao longo do dia, durante um ano. Os resultados encontrados estão mostrados esquematicamente no gráfico (SV: Solstício de Verão; SI: Solstício de Inverno; E: Equinócio):



Qual (is) cidade (s) indicada(s) no texto e no gráfico contradiz (em) a afirmação II?

- a) Salvador.
- b) Porto Alegre.
- c) Macapá e Salvador.
- d) Macapá e Porto Alegre.

7. Questão (Enem/2021)

O meu pai era paulista Meu avô, pernambucano O meu bisavô, mineiro Meu tataravô,
baiano Vou na estrada há muitos anos Sou um artista brasileiro

CHICO BUARQUE. **Paratodos**. 1993. Disponível em: www.chicobuarque.com.br. Acesso em: 29 jun. 2015 (fragmento).

A característica familiar descrita deriva do seguinte aspecto demográfico:

- a) Migração Interna.
- b) População Relativa.
- c) Expectativa de Vida.
- d) Taxa de Mortalidade.

☎ 0800 042 0131

☎ (83) 99861-9278

📧 @educanexus

📍 Avenida Piauí, Nº 75 - Estados
CEP 58030-330 • João Pessoa | PB

🌐 centroeducanexus.com.br

✉ contato@centroeducanexus.com.br

nosso site





8. Questão (Enem/2021)

Desde 2009, a área portuária carioca vem sofrendo grandes transformações realizadas no escopo da operação urbana consorciada conhecida como Porto Maravilha. Parte importante na tentativa de tornar o Rio de Janeiro um polo de serviços internacional, a “revitalização” urbana deveria deixar para trás uma paisagem geográfica que ainda recordava a cidade do início do século passado para abrir espaço, em seu lugar, à instalação de modernas torres comerciais, espaços de consumo e lazer inéditos e cerca de cem mil novos moradores, uma nova configuração socioespacial capaz de alçar a área portuária do Rio de Janeiro ao patamar dos waterfronts de Baltimore, Barcelona e Buenos Aires.

LACERDA, L.; WERNECK, M.; RIBEIRO, B. *Cortiços de hoje na cidade do amanhã. E-metropolis*, n. 30, set. 2017.

As intervenções urbanas descritas derivam de um processo socioespacial que busca a

- a) Intensificação da participação na competitividade global.
- b) Contenção da especulação no mercado imobiliário.
- c) Democratização da habitação popular.
- d) Valorização das funções tradicionais.

9. Questão (Enem/2021)

Preços justos e autorizações de uso da água devem garantir de forma adequada que a retirada de água, bem como o retorno de efluentes, mantenham operações eficientes e ambientalmente sustentáveis, de maneira que sejam adaptáveis às peculiaridades e necessidades da indústria e da irrigação em larga escala, bem como às atividades da agricultura em pequena escala e de subsistência.

UNESCO. *Relatório Mundial das Nações Unidas sobre Desenvolvimento dos Recursos Hídricos. Água para um mundo sustentável*. Unesco, 2015.

Considerando o debate sobre segurança hídrica, a proposta apresentada no texto está pautada no(a)

- a) Distribuição equitativa do abastecimento.
- b) Monitoramento do fornecimento urbano.
- c) Racionamento da capacidade fluvial.
- d) Revitalização gradativa de solos.

☎ 0800 042 0131

📞 (83) 99861-9278

📧 @educanexus

📍 Avenida Piauí, Nº 75 – Estados
CEP 58030-330 • João Pessoa | PB

🌐 centroeducanexus.com.br

✉ contato@centroeducanexus.com.br

nosso site





10. Questão (Enem/2021)

Palestinos se agruparam em frente a aparelhos de televisão e telas montadas ao ar livre em Ramalah, na Cisjordânia, para acompanhar o voto da resolução que pedia o reconhecimento da chamada Palestina como um Estado observador não membro da Organização das Nações Unidas (ONU). O objetivo era esperar pelo nascimento, ao menos formal, de um Estado palestino. Depois da aprovação da resolução, centenas de pessoas foram à praça da cidade com bandeiras palestinas, pelas ruas. Aprovada com 138 votos dos 193 da Assembleia-Geral, a resolução eleva o status do Estado palestino perante a organização. Palestinos comemoram elevação de status na ONU com bandeiras e fogos.

Disponível em: <http://folha.com>. Acesso em: 4 dez. 2012 (adaptado).

A Mencionada resolução da ONU referendou:

- a) O(a) delimitação institucional das fronteiras territoriais.
- b) Aumento da qualidade de vida da população local.
- c) Implementação do tratado de paz com os israelenses.
- d) Apoio da comunidade internacional à demanda nacional.

☎ 0800 042 0131

📞 (83) 99861-9278

📧 @educanexus

📍 Avenida Piauí, Nº 75 – Estados
CEP 58030-330 • João Pessoa | PB

🌐 centroeducanexus.com.br

✉ contato@centroeducanexus.com.br

nosso site



SIMULADO DE HISTÓRIA

Assinatura do aluno: _____

CPF: _____ - _____ Data: ____/____/____

Polo: _____

1. Questão (Enem/2016)



A imagem faz referência a uma intensa mobilização popular e pode ser traduzida como

- A campanha popular que confrontava a legitimidade das eleições indiretas no país.
- A manifestação de milhares de pessoas em prol da realização de eleições para o Senado.
- As passeatas foram realizadas em prol do fim da Ditadura Militar no Brasil e na Argentina.
- Os comícios e manifestações populares pela abertura política de forma lenta e segura.

2. Questão (Enem/2016)

A Lei das Doze Tábuas, de meados do século V a.C., fixou por escrito um velho direito costumeiro. No relativo às dívidas não pagas, o código permitia, em última análise, matar

☎ 0800 042 0131

☎ (83) 99861-9278

📧 @educanexus

📍 Avenida Piauí, Nº 75 - Estados
CEP 58030-330 • João Pessoa | PB

🌐 centroeducanexus.com.br

✉ contato@centroeducanexus.com.br

nosso site





o devedor; ou vendê-lo como escravo “do outro lado do Tibre” — isto é, fora do território de Roma.

CARDOSO, C. F. S. O trabalho compulsório na Antiguidade. Rio de Janeiro: Graal, 1984.

A referida lei foi um marco na luta por direitos na Roma Antiga, pois possibilitou que os plebeus:

- a) Modificassem a estrutura agrária assentada no latifúndio.
- b) Reivindicassem as mudanças sociais com base no conhecimento das leis.
- c) Conquistassem a possibilidade de casamento com os patrícios.
- d) Ampliassem a participação política nos cargos políticos públicos.

3. Questão (Enem/2018)

O encontro entre o Velho e o Novo Mundo, que a descoberta de Colombo tornou possível, é de um tipo muito particular: é uma guerra – ou a Conquista –, como se dizia então. E um mistério continua: o resultado do combate. Por que a vitória fulgurante, se os habitantes da América eram tão superiores em número aos adversários e lutaram no próprio solo? Se nos limitarmos à conquista do México – a mais espetacular, já que a civilização mexicana é a mais brilhante do mundo pré-colombiano – como explicar que Cortez, liderando centenas de homens, tenha conseguido tomar o reino de Montezuma, que dispunha de centenas de milhares de guerreiros?

TODOROV, T. A conquista da América. São Paulo: Martins Fontes, 1991 (adaptado)

No contexto da conquista, conforme análise apresentada no texto, uma estratégia para superar as disparidades levantadas foi

- a) Implantar as missões cristãs entre as comunidades submetidas.
- b) Utilizar a superioridade física dos mercenários africanos.
- c) Explorar as rivalidades existentes entre os povos nativos.
- d) Introduzir vetores para a disseminação de doenças epidêmicas.

4. Questão (Enem/2019)

A soberania dos cidadãos dotados de plenos direitos era imprescindível para a existência da cidade-estado. Segundo os regimes políticos, a proporção desses cidadãos em relação à população total dos homens livres podiam variar muito, sendo bastante pequena nas aristocracias e oligarquias e maior nas democracias.

CARDOSO, C. F. A cidade-estado clássica. São Paulo: Ática, 1985.

☎ 0800 042 0131

☎ (83) 99861-9278

@educanexus

📍 Avenida Piauí, Nº 75 – Estados
CEP 58030-330 • João Pessoa | PB

🌐 centroeducanexus.com.br

✉ contato@centroeducanexus.com.br

nosso site





Nas cidades-estado da Antiguidade Clássica, a proporção de cidadãos descrita no texto é explicada pela adoção do seguinte critério para a participação política:

- a) Controle da terra.
- b) Liberdade de culto.
- c) Igualdade de gênero.
- d) Exclusão dos militares.

5. Questão (Enem/2018)

A rebelião luso-brasileira em Pernambuco começou a ser urdida em 1644 e explodiu em 13 de junho de 1645, dia de Santo Antônio. Uma das primeiras medidas de João Fernandes foi decretar nulas as dívidas que os rebeldes tinham com os holandeses. Houve grande adesão da “nobreza da terra”, entusiasmada com esta proclamação heroica.

VAINFAS, R. Guerra declarada e paz fingida na restauração portuguesa. Tempo, n. 27, 2009.

O desencadeamento dessa revolta na América portuguesa seiscentista foi o resultado do(a)

- a) Fraqueza bélica dos protestantes batavos.
- b) Comércio transatlântico da África ocidental.
- c) Interesse econômico dos senhores de engenho.
- d) Diplomacia internacional dos Estados ibéricos.

6. Questão (Enem/2018)

Sou filho natural de uma negra, africana livre, da Costa da Mina (Nagô de Nação), de nome Luíza Mahin, pagã, que sempre recusou o batismo e a doutrina cristã. Minha mãe era baixa de estatura, magra, bonita, a cor era de um preto retinto e sem lustro, tinha os dentes alvíssimos como a neve, era muito altiva, geniosa, insofrida. Dava-se ao comércio – era quitandeira, muito laboriosa e, mais de uma vez, na Bahia, foi presa como suspeita de envolver-se em planos de insurreição de escravos, que não tiveram efeito.

[AZEVEDO, E. “Lá vai verso!”: Luiz Gama e as primeiras trovas burlescas de Getulino.

In: CHALHOUB, S.; PEREIRA, L. A. M. A história contada: capítulos de história social da literatura no Brasil. Rio de Janeiro: Nova Fronteira, 1998, adaptado.

Nesse trecho de suas memórias, Luiz Gama ressalta a importância dos(as)

- a) Laços de solidariedade familiar.
- b) Estratégias de resistência cultural.
- c) Mecanismos de hierarquização tribal.
- d) Instrumentos de dominação religiosa.

☎ 0800 042 0131

☎ (83) 99861-9278

📧 @educanexus

📍 Avenida Piauí, Nº 75 – Estados
CEP 58030-330 • João Pessoa | PB

🌐 centroeducanexus.com.br

✉ contato@centroeducanexus.com.br

nosso site





7. Questão (Enem/2017)

Uma área de cerca de 101,7 mil metros quadrados, com um pátio ferroviário e uma série de armazéns de açúcar abandonados pelo poder público. Quem olha de fora vê apenas isso, mas quem conhece a história do Cais José Estelita sabe que o local faz parte da história de Recife, sendo um dos cartões-postais e um dos poucos espaços públicos que restam na capital pernambucana.

E é por isso que um grupo está lutando para evitar que as construções sejam demolidas por um consórcio de grandes construtoras para construção de prédios comerciais e residenciais.

BUENO, C. Ocupe Estelita: movimento social e cultural defende marco histórico de Recife. *Ciência e Cultura*, n. 4, 2014.

A forma de atuação do movimento social relatado evidencia a sua busca pela

- a) Revitalização econômica do lugar.
- b) Ampliação do poder de consumo.
- c) Preservação do patrimônio material.
- d) Intensificação da geração de empregos.

8. Questão (Enem/2021)

Por que o Brasil continuou um só enquanto a América espanhola se dividiu em vários países?

Para o historiador brasileiro José Murilo de Carvalho, no Brasil, parte da sociedade era muito mais coesa ideologicamente do que a espanhola. Carvalho argumenta que isso se deveu à tradição burocrática portuguesa. “Portugal nunca permitiu a criação de universidades em sua colônia”. Por outro lado, na América espanhola, entre 1772 e 1872, 150 mil estudantes se formaram em universidades locais. Para o historiador mexicano Alfredo Ávila Rueda, as universidades na América espanhola eram, em sua maioria, reacionárias. Nesse sentido, o historiador mexicano diz acreditar que a livre circulação de impressos (jornais, livros e panfletos) na América espanhola, que não era permitida na América portuguesa (a proibição só foi revertida em 1808), teve função muito mais importante na construção de regionalismos do que propriamente as universidades.

BARRUCHO, L. Disponível em: www.bbc.com. Acesso em: 8 set. 2019 (adaptado).

Os pontos de vista dos historiadores referidos no texto são divergentes em relação ao;

- a) Papel desempenhado pelas instituições de ensino na criação das múltiplas identidades.

☎ 0800 042 0131

☎ (83) 99861-9278

📧 @educanexus

📍 Avenida Piauí, Nº 75 – Estados
CEP 58030-330 • João Pessoa | PB

🌐 centroeducanexus.com.br

✉ contato@centroeducanexus.com.br

nosso site





- b) Controle exercido pelos grupos de imprensa na centralização das esferas administrativas.
- c) Abandono sofrido pelas comunidades de docentes na concepção de coletividades políticas.
- d) Lugar ocupado pelas associações de acadêmicos no fortalecimento das agremiações estudantis.

9. Questão (Enem/2021)

Desde o século XII que a cristandade ocidental era agitada pelo desafio lançado pela cultura profana — a dos romances de cavalaria, mas também a cultura folclórica dos camponeses e igualmente a dos cidadãos, de caráter mais jurídico — à cultura eclesiástica, cujo veículo era o latim. Francisco de Assis veio alterar a situação, propondo aos seus ouvintes uma mensagem acessível a todos e, simultaneamente, enobrecendo a língua vulgar através do seu uso na religião.

VAUCHEZ, A. **A espiritualidade da Idade Média Ocidental, séc. VIII-XIII**. Lisboa: Estampa, 1995.

O comportamento desse religioso demonstra uma preocupação com as características assumidas pela Igreja e com as desigualdades sociais compartilhada no seu tempo pelos(as)

- a) Senhores feudais.
- b) Movimentos heréticos.
- c) Integrantes das Cruzadas.
- d) Corporações de ofícios.

10. Questão (Enem/2021)

Quando Getúlio Vargas se suicidou, em agosto de 1954, o país parecia à beira do caos. Acuado por uma grave crise política, o velho líder preferiu uma bala no peito à humilhação de aceitar uma nova deposição, como a que sofreu em outubro de 1945. Entretanto, ao contrário do que imaginavam os inimigos, ao ruído do estampido não se seguiu o silêncio que cerca a derrota.

REIS FILHO, D. A. O Estado à sombra de Vargas. Revista Nossa **História**, n. 7, maio 2004.

O Evento analisado no texto teve como repercussão imediata na política nacional a

- a) Reação Popular
- b) Intervenção Militar.
- c) Abertura Democrática.
- d) Campanha Anticomunista.

☎ 0800 042 0131

☎ (83) 99861-9278

📧 @educanexus

📍 Avenida Piauí, Nº 75 – Estados
CEP 58030-330 • João Pessoa | PB

🌐 centroeducanexus.com.br

✉ contato@centroeducanexus.com.br

nosso site





SIMULADO DE INGLÊS

Assinatura do aluno: _____

CPF: _____ - _____

Data: ____/____/____

Polo: _____

1. Questão (Enem/2017)

One of the things that made an incredible impression on me in the film was Frida's comfort in and celebration of her own unique beauty. She didn't try to fit into conventional ideas or images about womanhood or what makes someone or something beautiful. Instead, she fully inhabited her own unique gifts, not particularly caring what other people thought. She was magnetic and beautiful in her own right. She painted for years, not to be a commercial success or to be discovered, but to express her own inner pain, joy, family, love and culture. She absolutely and resolutely was who she was. The trueness of her own unique vision and her ability to stand firmly in her own truth was what made her successful in the end. (HUTZLER, L.)

A autora desse comentário sobre o filme Frida mostra-se impressionada com o fato de a pintora

- a) Ter uma aparência exótica.
- b) Vender bem a sua imagem.
- c) Ter grande poder de sedução.
- d) Assumir sua beleza singular.

2. Questão (Enem/2018)

☎ 0800 042 0131

📞 (83) 99861-9278

📧 @educanexus

📍 Avenida Piauí, Nº 75 - Estados
CEP 58030-330 • João Pessoa | PB

🌐 centroeducanexus.com.br

✉ contato@centroeducanexus.com.br

nosso site





No cartum, a crítica está no fato de a sociedade exigir do adolescente que:

- Se aposente prematuramente.
- Amadureça precocemente.
- Estude aplicadamente.
- Se forme rapidamente.

3. Questão (Enem/2018)

‘Is it your opinion, Winston, that the past has real existence?’ [...] O’Brien smiled faintly. ‘I will put it more precisely. Does the past exist concretely, in space? Is there somewhere or other a place, a world of solid objects, where the past is still happening?’

‘No.’

‘Then where does the past exist, is at all?’

‘In records. It is written down.’

‘In records. And _____?’

‘In the mind. In human memories.’

‘In memory. Very well, then. We, the Party, control all records, and we control all memories. Then we control the past, do we not?’

ORWELL, G. Nineteen Eighty-Four. New York: Signet Classics, 1977.

O romance 1984 descreve os perigos de um Estado totalitário. A ideia evidenciada nessa passagem é que o controle do Estado se dá por meio do(a)

- Boicote a ideais libertários.

☎ 0800 042 0131

☎ (83) 99861-9278

📧 @educanexus

📍 Avenida Piauí, Nº 75 – Estados
CEP 58030-330 • João Pessoa | PB

🌐 centroeducanexus.com.br

✉ contato@centroeducanexus.com.br

nosso site





- b) Veto ao culto das tradições.
- c) Poder sobre memórias e registros.
- d) Censura a produções orais e escritas.

4. Questão (Enem/2020)

Finally, Aisha finished with her customer and asked what colour Ifemelu wanted for her hair attachments.

“Colour four.”

“Not good colour,” Aisha said promptly.

“That’s what I use.”

“It look dirty. You don’t want colour one?”

“Colour one it too black. It looks fake,” Ifemelu said, loosening her headwrap. “Sometimes I use colour two, but colour four is closest to my natural colour.”

[...]

She touched Ifemelu’s hair. “Why you don’t have relaxer?”

“I like my hair the way God made it.”

“But how do you comb it? Hard to comb,” Aisha said.

Ifemelu had brought her own comb. She gently combed her hair, dense, soft and tightly coiled, until it framed her head like a halo. “It’s not hard to comb if you moisturize it properly,” she said, slipping into the coaxing tone of the proselytizer that she used whenever she was trying to convince other black women about the merits of wearing their hair natural. Aisha snorted; she clearly could not understand why anybody would choose to suffer through combing natural hair, plucked a little attachment from the pile on the table and began deftly to twist.

ADICHIE, C. Americanah: A novel. New York: Anchor Books, 2013.

A passagem do romance da escritora nigeriana traz um diálogo entre duas mulheres negras: a cabeleireira, Aisha, e a cliente, Ifemelu. O posicionamento da cliente é sustentado por argumentos que

- a) Reforçam um padrão de beleza.
- b) Retratam um conflito de gerações.
- c) Revelam uma atitude de resistência.
- d) Demonstram uma postura de imaturidade.

☎ 0800 042 0131

☎ (83) 99861-9278

📧 @educanexus

📍 Avenida Piauí, Nº 75 – Estados
CEP 58030-330 • João Pessoa | PB

🌐 centroeducanexus.com.br


✉ contato@centroeducanexus.com.br

nosso site





5. Questão (Enem/2020)



Disponível em: <https://sites.psu.edu>. Acesso em: 12 jun. 2018.

Os recursos usados neste pôster de divulgação de uma campanha levam o leitor a refletir sobre a necessidade de:

- a) Criticar o tipo de tratamento dado à mulher.
- b) Rever o desempenho da mulher no trabalho.
- c) Questionar a sobrecarga de atribuições da mulher.
- d) Analisar as pesquisas acerca dos direitos da mulher;

6. Questão (Enem/2020)

☎ 0800 042 0131

📞 (83) 99861-9278

📧 @educanexus

📍 Avenida Piauí, Nº 75 – Estados
CEP 58030-330 • João Pessoa | PB

🌐 centroeducanexus.com.br

✉ contato@centroeducanexus.com.br

nosso site





Disponível em: www.csuchico.edu. Acesso em: 11 dez. 2017.

Nesse pôster de divulgação de uma campanha que aborda a diversidade e a inclusão, a interação dos elementos verbais e não verbais faz referência ao ato de

- Estereotipar povos de certas culturas.
- Discriminar hábitos de grupos minoritários.
- Banir imigrantes de determinadas origens.
- Julgar padrões de beleza de diversas etnias.

7. Questão (Enem/2019)

5 Ways Pets Can Improve Your Health

A pet is certainly a great friend. After a difficult day, pet owners quite literally fell the love. In fact, for nearly 25 years, research has shown that living with pets provides certain health benefits. Pets help lower blood pressure and lessen anxiety. They boost our immunity. They can even help you get dates.

☎ 0800 042 0131

☎ (83) 99861-9278

📍 @educanexus

📍 Avenida Piauí, Nº 75 – Estados
CEP 58030-330 • João Pessoa | PB

🌐 centroeducanexus.com.br

✉ contato@centroeducanexus.com.br

nosso site





Allergy Fighters: A growing number of studies have suggested that kids growing up in a home with “furred animals” will have less risk of allergies and asthma.

Date magnets: Dogs are great for making love connections. Forget Internet matchmaking — a dog is a natural conversation starter.

Dogs for the Aged: Walking a dog or just caring for a pet — for elderly people who are able — can provide exercise and companionship.

Good for Mind and Soul: Like any enjoyable activity, playing with a dog can elevate levels of serotonin and dopamine — nerve transmitters that are known to have pleasurable and calming properties.

Good for the Heart: Heart attack patients who have pets survive longer than those without, according to several studies.

DAVIS, J. L. Disponível em: www.webmd.com. Acesso em: 21 abr. 2013 (adaptado).

Ao discutir sobre a influência de animais de estimação no bem-estar do ser humano, a autora, a fim de fortalecer seus argumentos, utiliza palavras e expressões como *research*, *a growing number of research* e *several studies* com o objetivo de;

- a) Mostrar que animais de estimação ajudam na cura de doenças como alergias e asma.
- b) Convencer sobre os benefícios da adoção de animais de estimação para a saúde.
- c) Fornecer dados sobre os impactos de animais de estimação nas relações amorosas.
- d) Explicar como o contato com animais de estimação pode prevenir ataques cardíacos

8. Questão (Enem/2021)

Back in the ancestral homeland of Michelle Obama, black women were rarely granted the honorific Miss or Mrs., but were addressed by their first name, or simply as “gal” or “auntie” or worse. This so openly demeaned them that many black women, long after they had left the South, refused to answer if called by their first name. A mother and father in 1970s Texas named their newborn “Miss” so that white people would have no choice but to address their daughter by that title. Black women were meant for the field, or the kitchen, or for use as they saw fit. They were, by definition, not ladies. The very idea of a black woman as first lady of the land, well, that would have been unthinkable.

Disponível em: www.nytimes.com. Acesso em: 28 dez. 2019 (adaptado).

Acrítica do livro de memórias de Michelle Obama, ex-primeira-dama dos EUA, aborda a história das relações humanas na cidade natal da autora. Nesse contexto, o uso do vocábulo “unthinkable” ressalta que

☎ 0800 042 0131

📞 (83) 99861-9278

📧 @educanexus

📍 Avenida Piauí, Nº 75 - Estados
CEP 58030-330 • João Pessoa | PB

🌐 centroeducanexus.com.br

✉ contato@centroeducanexus.com.br

nosso site





- a) A ascensão social era improvável.
- b) A mudança de nome era impensável.
- c) A origem do indivíduo era irrelevante.
- d) O trabalho feminino era inimaginável.

9. Questão (Enem/2021)



SIPRESS, Disponível em: www.newyorker.com. Acesso em: 12 jun. 2018.

A Presença de "at odds with" na fala da personagem do cartum revela o(a)

- a) Necessidade de acessar informações confiáveis.
- b) Dificuldade de conciliar diferentes anseios.
- c) Desejo de dominar novas tecnologias.
- d) Desafio de permanecer imparcial

☎ 0800 042 0131

☎ (83) 99861-9278

📧 @educanexus

📍 Avenida Piauí, Nº 75 - Estados
CEP 58030-330 • João Pessoa | PB

🌐 centroeducanexus.com.br

✉ contato@centroeducanexus.com.br

nosso site





10. Questão (Enem/2021)

We are now a nation obsessed with the cult of celebrity. Celebrities have replaced the classic notion of the hero. But instead of being respected for talent, courage or intelligence, it is money, style and image the deciding factors in what commands respect. Image is everything. Their image is painstakingly constructed by a multitude of different image consultants to carve out the most profitable celebrity they can. Then society is right behind them, believing in everything that celebrity believes in. Companies know that people will buy a product if a celebrity has it too. It is as if the person buying the product feels that they now have some kind of connection with the celebrity and that some of their perceived happiness will now be passed onto the consumer. So to look at it one way, the cult of celebrity is really nothing more than a sophisticated marketing scheme. Celebrities though cannot be blamed for all negative aspects of society. In reality society is to blame. We are the people who seemed to have lost the ability to think for ourselves. I suppose it's easier to be told what to think, rather than challenging what we are told. The reason we are swamped by celebrity is because there is a demand for it.

Disponível em: www.pitlanemagazine.com. Acesso em: 7 dez. 2017 (adaptado).

O texto, que aborda questões referentes ao tema do culto à celebridade, tem o objetivo de;

- a) Destacar os méritos das celebridades.
- b) Criticar o consumismo das celebridades.
- c) Ressaltar a necessidade de reflexão dos fãs.
- d) Culpar as celebridades pela obsessão dos fãs.

☎ 0800 042 0131

📞 (83) 99861-9278

📧 @educanexus

📍 Avenida Piauí, Nº 75 – Estados
CEP 58030-330 • João Pessoa | PB

🌐 centroeducanexus.com.br

✉ contato@centroeducanexus.com.br

nosso site





SIMULADO DE LITERATURA

Assinatura do aluno: _____

CPF: _____ - _____

Data: ____/____/____

Polo: _____

1. Questão (Enem/2012)

Desde dezoito anos que o tal patriotismo lhe absorvia e por ele fizera a tolice de estudar inutilidades. Que lhe importavam os rios? Eram grandes? Pois que fossem... Em que lhe contribuiria para a felicidade saber o nome dos heróis do Brasil? Em nada... O importante é que ele tivesse sido feliz. Foi? Não. Lembrou-se das coisas do tupi, do folk-lore, das suas tentativas agrícolas... Restava disso tudo em sua alma uma satisfação? Nenhuma! Nenhuma!

O tupi encontrou a incredulidade geral, o riso, a mofa, o escárnio; e levou-o à loucura. Uma decepção. E a agricultura? Nada. As terras não eram ferazes e ela não era fácil como diziam os livros. Outra decepção. E, quando o seu patriotismo se fizera combatente, o que achara? Decepções. Onde estava a doçura de nossa gente? Pois ele não a viu combater como feras? Pois não a via matar prisioneiros, inúmeros? Outra decepção. A sua vida era uma decepção, uma série, melhor, um encadeamento de decepções.

A pátria que quisera ter era um mito; um fantasma criado por ele no silêncio de seu gabinete.

BARRETO, L. Triste fim de Policarpo Quaresma. Disponível em: www.dominiopublico.gov.br. Acesso em: 8 nov. 2011.

O romance Triste fim de Policarpo Quaresma, de Lima Barreto, foi publicado em 1911. No fragmento destacado, a reação do personagem aos desdobramentos de suas iniciativas patrióticas evidencia que

- a) A dedicação de Policarpo Quaresma ao conhecimento da natureza brasileira levou-o a estudar inutilidades, mas possibilitou-lhe uma visão mais ampla do país.
- b) A curiosidade em relação aos heróis da pátria levou-o ao ideal de prosperidade e democracia que o personagem encontra no contexto republicano.
- c) A construção de uma pátria a partir de elementos míticos, como a cordialidade do povo, a riqueza do solo e a pureza linguística, conduz à frustração ideológica.

☎ 0800 042 0131

☎ (83) 99861-9278

📧 @educanexus

📍 Avenida Piauí, Nº 75 - Estados
CEP 58030-330 • João Pessoa | PB

🌐 centroeducanexus.com.br

✉ contato@centroeducanexus.com.br



nosso site



- d) A propensão do brasileiro ao riso, ao escárnio, justifica a reação de decepção e desistência de Policarpo Quaresma, que prefere resguardar-se em seu gabinete.

2. Questão (Enem/2016)

QUE VAI SER quando crescer? Vivem perguntando em redor. Que é ser? É ter um corpo, um jeito, um nome? Tenho os três. E sou? Tenho de mudar quando crescer? Usar outro nome, corpo e jeito? Ou a gente só principia a ser quando cresce? É terrível, ser? Dói? É bom? É triste? Ser: pronunciado tão depressa, e cabe tantas coisas? Repito: ser, ser, ser. Er. R. Que vou ser quando crescer? Sou obrigado a? Posso escolher? Não dá para entender. Não vou ser. Não quero ser. Vou crescer assim mesmo. Sem ser. Esquecer.

ANDRADE, C. D. Poesia e prosa. Rio de Janeiro: Nova Aguilar, 1992.

A inquietação existencial do autor com a autoimagem corporal e a sua corporeidade se desdobra em questões existenciais que têm origem

- a) no conflito do padrão corporal imposto contra as convicções de ser autêntico e singular.
- b) na aceitação das imposições da sociedade seguindo a influência de outros.
- c) na confiança no futuro, ofuscada pelas tradições e culturas familiares.
- d) no anseio de divulgar hábitos enraizados, negligenciados por seus antepassados.

3. Questão (Enem/2010)



☎ 0800 042 0131

📞 (83) 99861-9278

📧 @educanexus

📍 Avenida Piauí, Nº 75 – Estados
CEP 58030-330 • João Pessoa | PB

🌐 centroeducanexus.com.br

✉ contato@centroeducanexus.com.br

nosso site





(Tarsila do Amaral. “O mamoeiro”, 1925. Óleo s/ tela; 65 x 70 cm. IEB-USP.)

O modernismo brasileiro teve forte influência das vanguardas europeias. A partir da Semana de Arte Moderna, esses conceitos passaram a fazer parte da arte brasileira definitivamente. Tomando como referência o quadro “O mamoeiro”, identifica-se que, nas artes plásticas, a;

- a) Imagem passa a valer mais que as formas vanguardistas.
- b) Forma estética ganha linhas retas e valoriza o cotidiano.
- c) Natureza passa a ser admirada como um espaço utópico.
- d) Imagem privilegia uma ação moderna e industrializada.

4. Questão (Enem/2016)

Bons dias! (14 de junho de 1889)

Ó doce, ó longa, ó inexprimível melancolia dos jornais velhos! Conhece-se um homem diante de um deles. Pessoa que não sentir alguma coisa ao ler folhas de meio século, bem pode crer que não terá nunca uma das mais profundas sensações da vida, — igual ou quase igual à que dá a vista das ruínas numa civilização. Não é a saudade piegas, mas a recomposição do extinto, a revivescência do passado. (ASSIS, MACHADO).

O jornal impresso é parte integrante do que hoje se compreende por tecnologias de informação e comunicação. Nesse texto, o jornal é reconhecido como

- a) objeto de devoção pessoal.
- b) elemento de afirmação da cultura.
- c) instrumento de reconstrução da memória.
- d) ferramenta de investigação do ser humano.

5. Questão (Enem/2016)

☎ 0800 042 0131

📞 (83) 99861-9278

📧 @educanexus

📍 Avenida Piauí, Nº 75 – Estados
CEP 58030-330 • João Pessoa | PB

🌐 centroeducanexus.com.br

✉ contato@centroeducanexus.com.br

nosso site





— É o diabo!... praguejava entre dentes o brutalhão, enquanto atravessava o corredor ao lado do Conselheiro, enfiando às pressas o seu inseparável sobretudo de casimira alva.
 — É o diabo! Esta menina já devia ter casado! — Disso sei eu... balbuciou o outro. — E não é por falta de esforços de minha parte; creia! — Diabo! Faz lástima que um organismo tão rico e tão bom para procriar, se sacrifique desse modo! Enfim — ainda não é tarde; mas, se ela não se casar quanto antes — hum... hum!... Não respondo pelo resto! — Então o Doutor acha que...? Lobão inflamou-se: Oh! o Conselheiro não podia imaginar o que eram aqueles temperamentozinhos impressionáveis!... eram terríveis, eram violentos, quando alguém tentava contrariá-los! Não pediam — exigiam — reclamavam!

AZEVEDO, A. O homem. Belo Horizonte: UFMG, 2003 (fragmento).

O romance *O homem*, de Aluísio Azevedo, insere-se no contexto do Naturalismo, marcado pela visão do cientificismo. No fragmento, essa concepção aplicada à mulher define-se por uma

- a) conivência com relação à rejeição feminina de assumir um casamento arranjado pelo pai.
- b) caracterização da personagem feminina como um estereótipo da mulher sensual e misteriosa.
- c) convicção de que a mulher é um organismo frágil e condicionado por seu ciclo reprodutivo.
- d) submissão da personagem feminina a um processo que a infantiliza e limita intelectualmente.

6. Questão (Enem/2013)

Mal secreto

Se a cólera que espuma, a dor que mora N'alma, e destrói cada ilusão que nasce, Tudo o que punge, tudo o que devora

O coração, no rosto se estampasse;

Se se pudesse, o espírito que chora,

Ver através da máscara da face,

Quanta gente, talvez, que inveja agora

☎ 0800 042 0131

📞 (83) 99861-9278

📧 @educanexus

📍 Avenida Piauí, Nº 75 – Estados
CEP 58030-330 • João Pessoa | PB

🌐 centroeducanexus.com.br

✉ contato@centroeducanexus.com.br

nosso site





Nos causa, então piedade nos causasse!

Quanta gente que ri, talvez, consigo

Guarda um atroz, recôndito inimigo,

Como invisível chaga cancerosa!

Quanta gente que ri, talvez existe,

Cuja ventura única consiste

Em parecer aos outros venturosa!

Coerente com a proposta parnasiana de cuidado formal e racionalidade na condução temática, o soneto de Raimundo Correia reflete sobre a forma como as emoções do indivíduo são julgadas em sociedade. Na concepção do eu lírico, esse julgamento revela que;

- a) A necessidade de ser socialmente aceito leva o indivíduo a agir de forma dissimulada.
- b) O sofrimento íntimo torna-se mais ameno quando compartilhado por um grupo social.
- c) A capacidade de perdoar e aceitar as diferenças neutraliza o sentimento de inveja.
- d) O instinto de solidariedade conduz o indivíduo a apiedar-se do próximo.

7. Questão (Enem/2021)

Leito de Folhas Verdes

Brilha a lua no céu, brilham estrelas

Correm perfumes no correr da brisa,

A cujo influxo mágico respira-se

Um quebranto de amor, melhor que a vida!

A flor que desabrocha ao romper d'alva

☎ 0800 042 0131

📞 (83) 99861-9278

📧 @educanexus

📍 Avenida Piauí, Nº 75 – Estados
CEP 58030-330 • João Pessoa | PB

🌐 centroeducanexus.com.br

✉ contato@centroeducanexus.com.br

nosso site





Um só giro do sol, não mais, vegeta:

Eu sou aquela flor que espero ainda

Doce raio do sol que me dê vida.

DIAS, G. **Antologia poética**. Rio de Janeiro: Agir, 1979 (fragmento).

Na perspectiva do Romantismo, a representação feminina espelha concepções expressas no poema pela

- a) Reprodução de estereótipos sociais e de gênero
- b) Presença de traços marcadores de nacionalidade
- c) Sublimação do desejo por meio da espiritualização
- d) Correlação feita entre estados emocionais e natureza.

8. Questão (Enem/2021)

Seixas era homem honesto; mas ao atrito da secretaria e ao calor das salas, sua honestidade havia tomado essa têmpera flexível da cera que se molda às fantasias da vaidade e aos reclamos da ambição.

Era incapaz de apropriar-se do alheio, ou de praticar um abuso de confiança; mas professava a moral fácil e cômoda, tão cultivada atualmente em nossa sociedade.

Segundo essa doutrina, tudo é permitido em matéria de amor; e o interesse próprio tem plena liberdade, desde que se transija com a lei e evite o escândalo.

ALENCAR, J. **Senhora**. Disponível em: www.dominiopublico.gov.br. Acesso em: 7 out. 2015.

A literatura romântica reproduziu valores sociais em sintonia com seu contexto de mudanças. No fragmento de *Senhora*, as concepções românticas do narrador repercutem a

- a) Resistência à relativização dos parâmetros éticos.
- b) Idealização de personagens pela pobreza de atitudes
- c) Crítica aos modelos de austeridade dos espaços coletivos

☎ 0800 042 0131

📞 (83) 99861-9278

📧 @educanexus

📍 Avenida Piauí, Nº 75 – Estados
CEP 58030-330 • João Pessoa | PB

🌐 centroeducanexus.com.br

✉ contato@centroeducanexus.com.br

nosso site





d) Defesa da importância da família na formação moral do indivíduo.

9. Questão (Enem/2021)

Não que Pelino fosse químico, longe disso: mas era sábio, era gramático. Ninguém escrevia em Tubiacanga que não levasse bordoadas do Capitão Pelino, e mesmo quando se falava em algum homem notável lá no Rio, ele não deixava de dizer: "Não há dúvida" O homem tem talento, mas escreve: 'um outro', 'de resto'..." E contraía os lábios como se tivesse engolido alguma coisa amarga.

Toda a vila de Tubiacanga acostumou-se a respeitar o solene Pelino, que corrigia e emendava as maiores glórias nacionais. Um sábio...

Ao entardecer, depois de ler um pouco o Sotero, o Candido de Figueiredo ou o Castro Lopes, e de ter passado mais uma vez a tintura nos cabelos, o velho mestre-escola saía vagarosamente de casa, muito abotoado no seu paletó de brim mineiro, e encaminhava-se para a botica do Bastos a dar dous dedos de prosa. Conversar é um modo de dizer, porque ea Pelino avaro de palavras, limitando-se tão-somente a ouvir. Quando, porém, dos lábios de alguém escapava a menor incorreção de linguagem, intervinha e emendava. "Eu asseguro, dizia o agente do Correio, que..." Por aí, o mestre-escola intervinha com mansuetude evangélica: "Não diga 'asseguro', Senhor Bernardes; em português é garanto".

E a conversa continuava depois da emenda, para ser de novo interrompida por uma outra. Por essas e outras, houve muitos palestradores que se afastaram, mas Pelino, indiferente, seguro dos seus deveres, continuava o seu apostolado de vernaculismo.

BARRETO, L. **A Nova Califórnia**. Disponível em: www.dominiopublico.gov.br. Acesso em: 24 jul. 2019.

Do ponto de vista linguístico, a defesa da norma-padrão pelo personagem caracteriza-se por

- a) Contestar o ensino de regras em detrimento do conteúdo das informações.
- b) Resgatar valores patrióticos relacionados às tradições da língua portuguesa.
- c) Adotar uma perspectiva complacente em relação aos desvios gramaticais.
- d) desconsiderar diferentes níveis de formalidade nas situações de comunicação.

10. Questão (Enem/2021)

☎ 0800 042 0131

📞 (83) 99861-9278

📧 @educanexus

📍 Avenida Piauí, Nº 75 – Estados
CEP 58030-330 • João Pessoa | PB

🌐 centroeducanexus.com.br

✉ contato@centroeducanexus.com.br

nosso site





Coincidindo com o Dia Internacional dos Direitos da Infância, foram apresentados diversos trabalhos que mostram as mudanças que afetam a vida das crianças. Um desses estudos compara o que sonham e brincam as crianças hoje em relação às dos anos 1990. E o que se descobriu é que as crianças têm agora menos lazer e estão mais sobrecarregadas por deveres e atividades extracurriculares do que as de 25 anos atrás. As crianças de hoje não só dedicam menos tempo para brincar, como também, quando brincam, a maioria não o faz com outras crianças no parque, na rua ou na praça, mas em casa e muitas vezes sozinhas. E já não brincam tanto com brinquedos, mas com aparelhos eletrônicos, entre os quais predomina o jogo individual com a máquina.

OLIVIA, M. P. O direito das crianças ao lazer... e a crescer sem carências. **El País**, 20 nov. 2015(adaptado).

O Texto indica que as transformações nas experiências lúdicas na infância

- a) Fomentaram as relações sociais entre as crianças.
- b) Tornaram o lazer uma prática difundida entre as crianças.
- c) Incentivaram a criação de novos espaços para se divertir.
- d) Promoveram uma vivência corporal menos ativa.

☎ 0800 042 0131

📞 (83) 99861-9278

📧 @educanexus

📍 Avenida Piauí, Nº 75 – Estados
CEP 58030-330 • João Pessoa | PB

🌐 centroeducanexus.com.br

✉ contato@centroeducanexus.com.br

nosso site





SIMULADO DE MATEMÁTICA

Assinatura do aluno: _____

CPF: _____ - _____

Data: ____/____/____

Polo: _____

1. Questão (Enem/2020)

Uma torneira está gotejando água em um balde com capacidade de 18 litros. No instante atual, o balde se encontra com a ocupação de 50% de sua capacidade. A cada segundo caem 5 gotas de água da torneira, e uma gota é formada, em média, por 5×10^{-2} mL de água.

Quanto tempo, em hora, será necessário para encher completamente o balde, partindo do instante atual?

- a) 2×10^1
- b) 1×10^1
- c) 2×10^{-2}
- d) 1×10^{-2}

2. Questão (Enem/2020)

Um grupo sanguíneo, ou tipo sanguíneo, baseia-se na presença ou ausência de dois antígenos, A e B, na superfície das células vermelhas do sangue. Como dois antígenos estão envolvidos, os quatro tipos sanguíneos distintos são:

- Tipo A: apenas o antígeno A está presente;
- Tipo B: apenas o antígeno B está presente;
- Tipo AB: ambos os antígenos estão presentes;
- Tipo O: nenhum dos antígenos está presente.

Disponível em: <http://saude.hsw.oul.com.br>. Acesso em 15 abr. 2012 (adaptado).

Foram coletadas amostras de sangue de 200 pessoas e, após análise laboratorial, foi identificado que em 100 amostras está presente o antígeno A, em 110 amostras há presença do antígeno B e em 20 amostras nenhum dos antígenos está presente.

☎ 0800 042 0131

☎ (83) 99861-9278

@educanexus

📍 Avenida Piauí, Nº 75 - Estados
CEP 58030-330 • João Pessoa | PB

🌐 centroeducanexus.com.br

✉ contato@centroeducanexus.com.br

nosso site





Dessas pessoas que foram submetidas à coleta de sangue, o número das que possuem o tipo sanguíneo A é igual a

- a) 30
- b) 60
- c) 70
- d) 90

3. Questão (Enem/2020)

Uma loja de materiais de construção vende dois tipos de caixas-d'água: tipo A e tipo B. Ambas têm o formato cilíndrico e possuem o mesmo volume, e a altura da caixa-d'água do tipo B é igual a 25% da altura da caixa-d'água tipo A.

Se R denota o raio da caixa-d'água do tipo A, então o raio da caixa-d'água tipo B é

- a) $2R$
- b) $4R$
- c) $5R$
- d) $16R$

4. Questão (Enem/2021)

Uma unidade de medida comum usada para expressar áreas de terrenos de grandes dimensões é o hectare, que equivale a 10.000 m^2 . Um fazendeiro decide fazer um loteamento utilizando 3 hectares de sua fazenda, dos quais 0,9 hectare será usado para a construção de ruas e calçadas e o restante será dividido em terrenos com área de 300 m^2 cada um. Os 20 primeiros terrenos vendidos terão preços promocionais de R\$ 20.000,00 cada, e os demais, R\$30.000,00 cada.

Nas condições estabelecidas, o valor total, em real, obtido pelo fazendeiro com a venda de todos os terrenos será igual a

- a) 700.000
- b) 1.600.000
- c) 1.900.000
- d) 2.200.000

☎ 0800 042 0131

📞 (83) 99861-9278

📧 @educanexus

📍 Avenida Piauí, Nº 75 – Estados
CEP 58030-330 • João Pessoa | PB

🌐 centroeducanexus.com.br

✉ contato@centroeducanexus.com.br

nosso site





5. Questão (Enem/2021)

Após consulta médica, um paciente deve seguir um tratamento composto por três medicamentos: X, Y e Z. O paciente, para adquirir os três medicamentos, faz um orçamento em três farmácias diferentes, conforme o quadro.

	X	Y	Z
Farmácia 1	R\$ 45,00	R\$ 40,00	R\$ 50,00
Farmácia 2	R\$ 50,00	R\$ 50,00	R\$ 40,00
Farmácia 3	R\$ 65,00	R\$ 45,00	R\$ 35,00

Dessas farmácias, algumas oferecem descontos:

- ❖ Na compra dos 3 medicamentos na Farmácia 3, recebe-se 20% de desconto no valor total da compra.
- ❖ Na compra dos medicamentos X e Y na Farmácia 2, recebe-se um desconto de 20% em ambos os produtos, independentemente da compra do medicamento Z, e não há desconto para o medicamento Z;
- ❖ Na compra dos 3 medicamentos na Farmácia 3, recebe-se 20% de desconto no valor total da compra.

O paciente deseja efetuar a compra de modo a minimizar sua despesa com os medicamentos.

De acordo com as informações fornecidas, o paciente deve comprar os medicamentos da seguinte forma:

- X e Y na Farmácia 2, e Z na Farmácia 3.
- X na Farmácia 2, e Y e Z na Farmácia 3.
- X e Y na Farmácia 1, e Z na Farmácia 3.
- X, Y e Z na Farmácia 1.

6. Questão (Enem/2021)

O gráfico apresenta o nível de ocupação dos cinco reservatórios de água que abasteciam uma cidade em 2 de fevereiro de 2015.

☎ 0800 042 0131

📞 (83) 99861-9278

📧 @educanexus

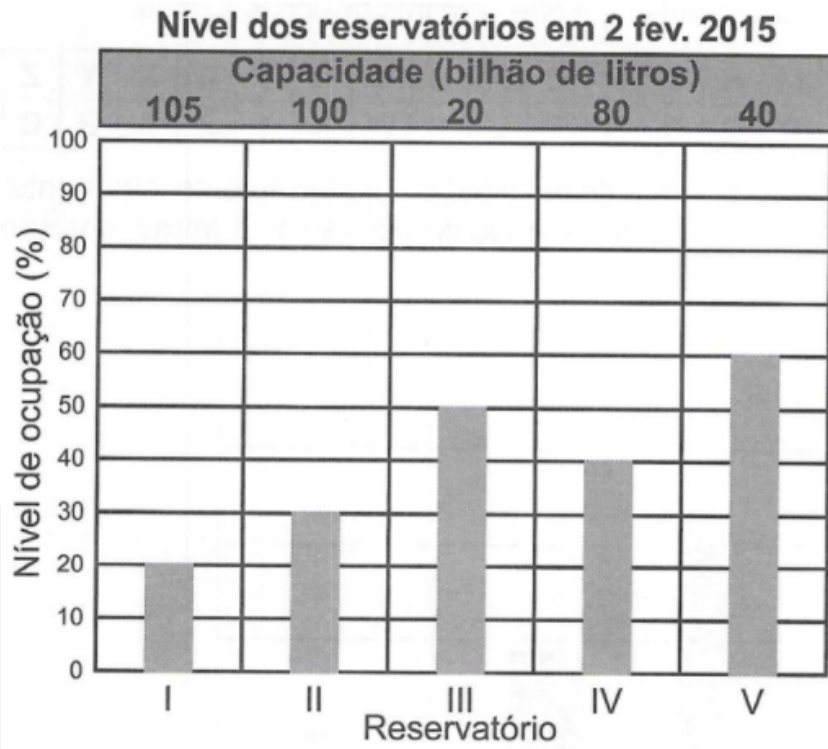
📍 Avenida Piauí, Nº 75 - Estados
CEP 58030-330 • João Pessoa | PB

🌐 centroeducanexus.com.br

✉ contato@centroeducanexus.com.br

nosso site





Nessa data, o reservatório com o maior volume de água era o;

- a) I.
- b) II.
- c) III.
- d) IV.

7. Questão (Enem/2028)

Um Edifício, tem a numeração dos andares iniciando no térreo (T), e continuando com primeiro, segundo, terceiro, ..., até o último andar. Uma criança entrou no elevador e, tocando no painel, seguiu uma sequência de andares, parando, abrindo e fechando a porta em diversos andares. A partir de onde entrou a criança, o elevador subiu sete andares, em seguida desceu dez, desceu mais treze, subiu nove, desceu quatro e parou no quinto andar, finalizando a sequência. Considere que, no trajeto seguido pela criança, o elevador parou uma vez no último andar do edifício.

De acordo com as informações dadas, o último andar do edifício é o:

- a) 16°
- b) 22°
- c) 23°
- d) 25°

☎ 0800 042 0131

☎ (83) 99861-9278

📧 @educanexus

📍 Avenida Piauí, Nº 75 - Estados
CEP 58030-330 • João Pessoa | PB

🌐 centroeducanexus.com.br

✉ contato@centroeducanexus.com.br

nosso site





8. Questão (Enem/2018)

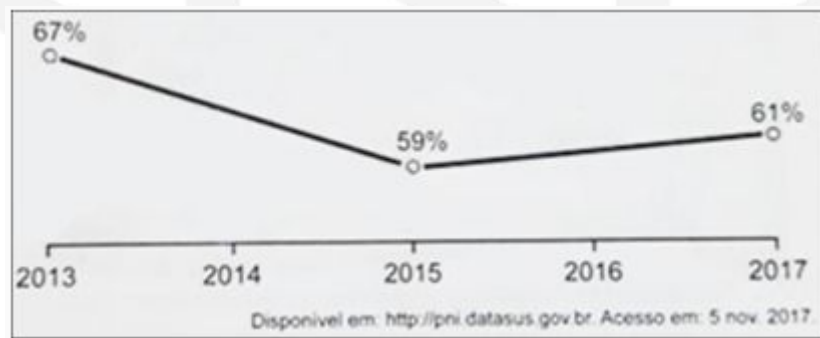
Uma loja vende automóveis em N parcelas iguais sem juros. No momento de contratar o financiamento, caso o cliente queira aumentar o prazo, acrescentando mais 5 parcelas, o valor de cada uma das parcelas diminui R\$ 200,00, ou se ele quiser diminuir o prazo, com 4 parcelas a menos, o valor de cada uma das parcelas sobe R\$ 232,00. Considere ainda que, nas três possibilidades de pagamento, o valor do automóvel é o mesmo, todas são sem juros e não é dado desconto em nenhuma das situações.

Nessas condições, qual é a quantidade N de parcelas a serem pagas de acordo com a proposta inicial da loja?

- a) 20
- b) 29
- c) 24
- d) 40

9. Questão (Enem/2018)

A raiva é uma doença viral e infecciosa, transmitida por mamíferos. A campanha nacional de vacinação antirrábica tem o objetivo de controlar a circulação do vírus da raiva canina e felina, prevenindo a raiva humana. O gráfico mostra a cobertura (porcentagem de vacinados) da campanha, em cães, nos anos de 2013, 2015 e 2017, no município de Belo Horizonte, em Minas Gerais. Os valores das coberturas dos anos de 2014 e 2016 não estão informados no gráfico e deseja-se estimá-los. Para tal, levou-se em consideração que a variação na cobertura de vacinação da campanha antirrábica, nos períodos de 2013 e 2015 e de 2015 a 2017, deu-se de forma linear.



Qual teria sido a cobertura dessa campanha no ano 2014?

- a) 62,3%
- b) 63,0%
- c) 63,5%

☎ 0800 042 0131

☎ (83) 99861-9278

📧 @educanexus

📍 Avenida Piauí, Nº 75 - Estados
CEP 58030-330 • João Pessoa | PB

🌐 centroeducanexus.com.br

✉ contato@centroeducanexus.com.br

nosso site





d) 64,0%

10. Questão (Enem/2019)

A bula de um antibiótico infantil, fabricado na forma de xarope, recomenda que sejam ministrados, diariamente, no máximo 500 mg desse medicamento para cada quilograma de massa do paciente. Um pediatra prescreveu a dosagem máxima desse antibiótico para ser ministrada diariamente a uma criança de 20 kg pelo período de 5 dias. Esse medicamento pode ser comprado em frascos de 10 mL, 50 mL, 100 mL, 250 mL e 500 mL. Os pais dessa criança decidiram comprar a quantidade exata de medicamento que precisará ser ministrada no tratamento, evitando a sobra de medicamento. Considere que 1 g desse medicamento ocupe um volume de 1cm³.

A capacidade do frasco, em mililitro, que esses pais deverão comprar é

- a) 10
- b) 50
- c) 100
- d) 500

☎ 0800 042 0131

📞 (83) 99861-9278

📧 @educanexus

📍 Avenida Piauí, Nº 75 - Estados
CEP 58030-330 • João Pessoa | PB

🌐 centroeducanexus.com.br

✉ contato@centroeducanexus.com.br

nosso site





SIMULADO DE PORTUGUÊS

Assinatura do aluno: _____

CPF: _____ - _____

Data: ____/____/____

Polo: _____

1. Questão (FATEC)

O pronome pessoal oblíquo átono está bem colocado em:

- a) Certos pormenores não te interessam.
- b) Queremos que todos sintam-se felizes.
- c) Me empresta o lápis?
- d) As cartas que enviaram-nos serão respondidas brevemente.

2. Questão (ITA)

O pronome pessoal oblíquo átono está bem colocado em um só dos períodos. Qual?

- a) Isto me não diz respeito! respondeu-me ele, afetadamente.
- b) Segundo deliberou-se na sessão, espero que todos apresentem-se na hora conveniente.
- c) Me entenda! Lhe não disse isto!
- d) O conselho que dão-nos os pais, levamo-los em conta mais tarde.
- e) Amanhã contar-te-ei por que peripécias consegui não envolver-me.

3. Questão (UNIRIO)

Assinale o item que completa convenientemente as lacunas do trecho: A maxila e os dentes denotavam a decrepitude do burrinho; _____, porém, estavam mais gastos que _____.

- a) esses, aquela
- b) estes, aquela
- c) estes, esses
- d) aqueles, esta

☎ 0800 042 0131

📞 (83) 99861-9278

📧 @educanexus

📍 Avenida Piauí, Nº 75 - Estados
CEP 58030-330 • João Pessoa | PB

🌐 centroeducanexus.com.br

✉ contato@centroeducanexus.com.br

nosso site





4. Questão (ENEM)

O uso do pronome átono no início das frases é destacado por um poeta e por um gramático nos textos abaixo.

Pronominais

Dê-me um cigarro

Diz a gramática

Do professor e do aluno

E do mulato sabido

Mas o bom negro e o bom branco

Da Nação Brasileira

Dizem todos os dias

Deixa disso camarada

Me dá um cigarro.

(ANDRADE, Oswald de. Seleção de textos. São Paulo: Nova Cultural, 1988.)

“Iniciar a frase com pronome átono só é lícito na conversação familiar, despreocupada, ou na língua escrita quando se deseja reproduzir a fala dos personagens (...)”.

(CEGALLA, Domingos Paschoal. Novíssima gramática da língua portuguesa. São Paulo: Nacional, 1980.)

Comparando a explicação dada pelos autores sobre essa regra, pode-se afirmar que ambos:

- a) Condenam essa regra gramatical
- b) Acreditam que apenas os esclarecidos sabem essa regra.
- c) Criticam a presença de regras na gramática.
- d) Relativizam essa regra gramatical.

5. Questão (ENEM/2020)

Roberto Segre. Arquiteto do mundo.

Nascido em Milão, em 1934, o arquiteto Roberto Segre emigrou para a Argentina aos cinco anos, fugindo do fascismo italiano. Ainda jovem, aos 29 anos, mudou-se para Cuba,

0800 042 0131

(83) 99861-9278

@educanexus

Avenida Piauí, Nº 75 - Estados
CEP 58030-330 • João Pessoa | PB

centroeducanexus.com.br

contato@centroeducanexus.com.br





onde permaneceu dando aulas de história da arquitetura e urbanismo na Universidade de Havana até 1994. Segre se mudaria definitivamente para o Brasil, em 1994, a convite da UFRJ. Em 2007, recebeu o título de doutor honoris causa pelo Instituto Superior Politécnico de Havana. Roberto Segre morreu, na manhã de anteontem, aos 78 anos, atropelado por um motociclista, quando caminhava na Praia de Icaraí, em Niterói, onde morava. Ele chegou a ser hospitalizado, mas não resistiu aos ferimentos. O corpo será velado amanhã, das 9 h às 17 h, no Palácio Universitário da UFRJ, Avenida Pasteur, 250, na Praia Vermelha, Urca.

Fonte: <https://www.qconcursos.com>. Acesso em: 08 jan. 2022.

Na organização desse texto, observam-se traços comumente característicos de biografias, entretanto, trata-se de um(a)

- a) Aviso, pois sua função é advertir o leitor sobre o perigo de se caminhar nas orlas.
- b) Relato, pois descreve o acidente envolvendo um motociclista e seus desdobramentos.
- c) Anúncio, pois divulga o recebimento do título de doutor honoris causa pelo professor morto.
- d) Notícia, pois seu objetivo é informar o leitor sobre o acidente, seguido da morte do professor.

6. Questão (ENEM/2018)

Filha do compositor Paulo Leminski lança disco com suas canções

“Leminskanções” dá novos arranjos a 24 composições do poeta

Frequentemente, a cantora e compositora Estrela Ruiz é questionada sobre a influência da poesia de seu pai, Paulo Leminski, na música que ela produz. “A minha infância foi música, música, música”, responde veementemente, lembrando que, antes de poeta, Leminski era compositor.

Estrela frisa a faceta musical do pai em Leminskanções. Duplo, o álbum soma Essa noite vai ter sol, com 13 composições assinadas apenas por Leminski, e Se nem for terra, se transformar, que tem 11 parcerias com nomes como sua mulher, Alice Ruiz, com quem compôs uma única faixa, Itamar Assumpção e Moraes Moreira.

BOMFIM, M. Disponível em: <http://cultura.estadao.com.br>.

☎ 0800 042 0131

📞 (83) 99861-9278

📧 @educanexus

📍 Avenida Piauí, Nº 75 – Estados
CEP 58030-330 • João Pessoa | PB

🌐 centroeducanexus.com.br

✉ contato@centroeducanexus.com.br

nosso site





Os gêneros textuais são caracterizados por meio de seus recursos expressivos e suas intenções comunicativas. Esse texto enquadra-se no gênero

- a) Biografia, por fazer referência à vida da artista.
- b) Relato, por trazer o depoimento da filha do artista.
- c) Notícia, por informar ao leitor sobre o lançamento do disco.
- d) Resenha, por apresentar as características do disco.

7. Questão (MED – SANTOS)

Assinale a frase inteiramente correta:

- a) Se você requisasse e seu advogado intervisse, talvez reavesse todos os seus bens.
- b) Se você requeresse e seu advogado interviesse, talvez reouvesse todos os seus bens.
- c) Se você requizesse e seu advogado intervesse, talvez reaveria todos os seus bens.
- d) Se você requisasse e seu advogado intervesse, talvez reaveria todos os seus bens.

8. Questão

Indique a oração em que o pronome oblíquo, em destaque, tem a função de objeto direto.

- a) Leu-o e foi dormir.
- b) Se isto não tivesse acontecido, daria o dinheiro a ti.
- c) Recompensarei se ele obedecer-lhe.
- d) Eles me devolveram os livros.

9. Questão (UFMG)

A propósito do trecho que segue, aponte a classificação correta referente ao termo em destaque:

“Minha bela Marília, tudo passa,
A sorte deste mundo é mal segura
Se vem depois dos males a ventura
Vem depois dos prazeres a desgraça”.

☎ 0800 042 0131

☎ (83) 99861-9278

📧 @educanexus

📍 Avenida Piauí, Nº 75 – Estados
CEP 58030-330 • João Pessoa | PB

🌐 centroeducanexus.com.br

✉ contato@centroeducanexus.com.br

Tomás Antônio Gonzaga.





- a) Vocativo
- b) Sujeito
- c) Aposto
- d) Adjunto adnominal

10. Questão (IBGP)

Assinale a alternativa em que todos os vocábulos são pronomes possessivos.

- a) Nosso – deste – que.
- b) Quem – essa – seu.
- c) Nosso – seu – que.
- d) Nosso – seu – suas.

☎ 0800 042 0131

📞 (83) 99861-9278

📧 @educanexus

📍 Avenida Piauí, Nº 75 – Estados
CEP 58030-330 • João Pessoa | PB

🌐 centroeducanexus.com.br

✉ contato@centroeducanexus.com.br

nosso site





SIMULADO DE QUÍMICA

Assinatura do aluno: _____

CPF: _____ - _____ Data: ____/____/____

Polo: _____

1. Questão (Enem/2021)

A simples atitude de não jogar direto no lixo ou no ralo da pia o óleo de cozinha usado pode contribuir para a redução da poluição ambiental. Mas o que fazer com o óleo vegetal que não será mais usado? Não existe um modelo ideal de descarte, mas uma alternativa simples tem sido reaproveitá-lo para fazer sabão. Para isso, são necessários, além do próprio óleo, água e soda cáustica.

LOBO, I. **Sabão com óleo de cozinha**. Disponível em: <http://pga.pgr.mpf.gov.br>. Acesso em 26 fev. 2012 (adaptado).

Com base no texto, a reação química que permite o reaproveitamento do óleo vegetal é denominada

- a) Redução
- b) Epoxidação
- c) Substituição
- d) Saponificação

2. Questão (Enem/2020)

A enorme quantidade de resíduos gerados pelo consumo crescente da sociedade traz para a humanidade uma preocupação socioambiental, em especial pela quantidade de lixo produzido. Além da reciclagem e do reuso, pode-se melhorar ainda mais a qualidade de vida, substituindo polímeros convencionais por polímero biodegradáveis.

Esses polímeros têm grandes vantagens socioambientais em relação aos convencionais porque

- a) não são tóxicos.
- b) Não precisam ser reciclados.
- c) Não causam poluição ambiental quando descartados.

☎ 0800 042 0131

📞 (83) 99861-9278

📧 @educanexus

📍 Avenida Piauí, Nº 75 - Estados
CEP 58030-330 • João Pessoa | PB

🌐 centroeducanexus.com.br

✉ contato@centroeducanexus.com.br

nosso site





d) São degradados em um tempo bastante menor que os convencionais

3. Questão (Enem/2020)

Mega espetáculos com queima de grande quantidade de fogos de artifício em festas de final de ano são muito comuns no Brasil. Após a queima, grande quantidade de material particulado permanece suspensa no ar. Entre os resíduos, encontram-se compostos de sódio, potássio, bário, cálcio, chumbo, antimônio, cromo, além de percloratos e gases, como os dióxidos de nitrogênio e enxofre.

BRUNNING, A. **The Chemistry of Firework Pollution**. Disponível em: www.compoundchem.com. Acesso em: 1 de dez. de 2017 (adaptado)

Esses espetáculos promovem riscos ambientais, porque;

- a) As substâncias resultantes da queima de fogos de artifício são inflamáveis.
- b) Os resíduos resultantes da queima de fogos de artifício ainda são explosivos.
- c) Os produtos da queima contêm metais pesados e gases tóxicos que resultam em poluição atmosférica.
- d) O sódio e o potássio são os principais responsáveis pela toxicidade do produto da queima.

4. Questão (Enem/2020)

Grandes reservatórios de óleo leve de melhor qualidade e que produz petróleo mais fino foram descobertos no litoral brasileiro numa camada denominada pré-sal, formada há 150 milhões de anos.

A utilização desse recurso energético acarreta para o ambiente um desequilíbrio no ciclo do;

- a) Nitrogênio, devido à nitrificação ambiental transformando amônia em nitrito.
- b) Carbono, devido à liberação das cadeias carbônicas aprisionadas abaixo dos sedimentos.
- c) Nitrogênio, devido ao aumento dos compostos nitrogenados no ambiente terrestre.
- d) Carbono, devido ao aumento dos carbonatos dissolvidos no ambiente marinho.

5. Questão (Enem/2020)

☎ 0800 042 0131

📞 (83) 99861-9278

📧 @educanexus

📍 Avenida Piauí, Nº 75 – Estados
CEP 58030-330 • João Pessoa | PB

🌐 centroeducanexus.com.br

✉ contato@centroeducanexus.com.br

nosso site





Em 2011, uma falha no processo de perfuração realizado por uma empresa petrolífera ocasionou derramamento de petróleo na bacia hidrográfica de Campos, no Rio de Janeiro.

Os impactos decorrentes desse derramamento ocorrem porque os componentes do petróleo

- a) Reagem com a água do mar e sofrem degradação, gerando compostos com elevada toxicidade.
- b) Acidificam o meio, promovendo o desgaste das conchas calcárias de moluscos e a morte de corais.
- c) Dissolvem-se na água, causando a mortandade dos seres marinhos por ingestão da água contaminada.
- d) Têm caráter hidrofóbico e baixa densidade, impedindo as trocas gasosas entre o meio aquático e a atmosfera.

6. Questão (Enem/2020)

Embora a energia nuclear possa ser utilizada para fins pacíficos, recentes conflitos geopolíticos têm trazido preocupações em várias partes do planeta e estimulado discussões visando o combate ao uso de armas de destruição em massa. Além do potencial destrutivo da bomba atômica, uma grande preocupação associada ao emprego desse artefato bélico é a poeira radioativa deixada após a bomba ser detonada.

Qual é o processo envolvido na detonação dessa bomba?

- a) Fissão nuclear do urânio, provocada por nêutrons.
- b) Fusão nuclear do hidrogênio, provocada por prótons.
- c) Desintegração nuclear do plutônio, provocada por elétrons.
- d) Associação em cadeia de chumbo, provocada por pósitrons.

7. Questão (Enem/2019)

Algumas toneladas de medicamentos para uso humano e veterinário são produzidas por ano. Os fármacos são desenvolvidos para serem estáveis, mantendo suas propriedades químicas de forma a atender um propósito terapêutico. Após o consumo de fármacos, parte de sua dosagem é excretada de forma inalterada, persistindo no meio ambiente. Em todo o mundo, antibióticos, hormônios, anestésicos, anti-inflamatórios, entre outros, são detectados em concentrações preocupantes no esgoto doméstico, em águas superficiais e de subsolo. Dessa forma, a ocorrência de fármacos residuais no meio ambiente pode apresentar efeitos adversos em organismos aquáticos e terrestres.

☎ 0800 042 0131

📞 (83) 99861-9278

📧 @educanexus

📍 Avenida Piauí, Nº 75 - Estados
CEP 58030-330 • João Pessoa | PB

🌐 centroeducanexus.com.br

✉ contato@centroeducanexus.com.br

nosso site





BILA, D. M.; DEZOTTI, M. Fármacos no meio ambiente. Química Nova, v. 26, n.4, ago. 2003 (adaptado).

Qual ação minimiza a permanência desses contaminantes nos recursos hídricos?

- a) Utilização de esterco como fertilizante na agricultura.
- b) Ampliação das redes de coleta de esgoto na zona urbana.
- c) Descarte dos medicamentos fora do prazo de validade em lixões.
- d) Desenvolvimento de novos processos nas estações de tratamento de efluentes.

8. Questão (Enem/2019)

A cada safra, a quantidade de café beneficiado é igual à quantidade de resíduos gerados pelo seu beneficiamento. O resíduo pode ser utilizado como fertilizante, pois contém cerca de 6,5% de pectina (um polissacarídeo), aproximadamente 25% de açúcares fermentáveis (frutose, sacarose e galactose), bem como resíduos de alcalóides (compostos aminados) que não foram extraídos no processo.

LIMA, L. K. S. et al. Utilização de resíduos oriundo da torrefação do café na agricultura em substituição à adubação convencional. ACSA - Agropecuária Científica no Semi-Árido. v.10, n.1, jan.-mar., 2014 (adaptado).

Esse resíduo contribui para a fertilidade do solo, pois

- a) Possibilita a reciclagem de carbono e nitrogênio.
- b) Promove o deslocamento do alumínio, que é tóxico.
- c) Melhora a compactação do solo por causa da presença de pectina.
- d) Eleva o pH do solo em função da degradação dos componentes do resíduo.

9. Questão (Enem/2018)

Companhias que fabricam jeans usam cloro para o clareamento, seguido de lavagem. Algumas estão substituindo o cloro por substâncias ambientalmente mais seguras como peróxidos, que podem ser degradados por enzimas chamadas peroxidases. Pensando nisso, pesquisadores inseriram genes codificadores de peroxidases em leveduras cultivadas nas condições de clareamento e lavagem dos jeans e selecionaram as sobreviventes para produção dessas enzimas.

TORTORA, G. J.; FUNKE, B.R.; CASE, C.L. **Microbiologia. Rio de Janeiro: Artmed, 2016 (adaptado).**

Nesse caso, o uso dessas leveduras modificadas objetivas.

- a) Reduzir a quantidade de resíduos tóxicos efluentes da lavagem.
- b) Eliminar a necessidade de tratamento da água consumida.

☎ 0800 042 0131

☎ (83) 99861-9278

@educanexus

📍 Avenida Piauí, Nº 75 - Estados
CEP 58030-330 • João Pessoa | PB

🌐 centroeducanexus.com.br

✉ contato@centroeducanexus.com.br

nosso site





- c) Elevar a capacidade de clareamento dos jeans.
- d) Aumentar a resistência do jeans a peróxidos.

10. Questão (Enem/2018)

O petróleo é uma fonte de energia de baixo custo e de larga utilização como matéria-prima para uma grande variedade de produtos. É um óleo formado de várias substâncias de origem orgânica, em sua maioria hidrocarbonetos de diferentes massas molares. São utilizadas técnicas de separação para obtenção dos componentes comercializáveis do petróleo. Além disso, para aumentar a quantidade de frações comercializáveis, otimizando o produto de origem fóssil, utiliza-se o processo de craqueamento. O que ocorre nesse processo?

- a) Reação de óxido-redução com transferência de elétrons entre as moléculas.
- b) Solubilização das frações do petróleo com a utilização de diferentes solventes.
- c) Transformação das frações do petróleo em outras moléculas menores.
- d) Decantação das moléculas com diferentes massas molares pelo uso de centrífugas.

☎ 0800 042 0131

📞 (83) 99861-9278

📧 @educanexus

📍 Avenida Piauí, Nº 75 – Estados
CEP 58030-330 • João Pessoa | PB

🌐 centroeducanexus.com.br

✉ contato@centroeducanexus.com.br

nosso site





SIMULADO DE SOCIOLOGIA

Assinatura do aluno: _____

CPF: _____ - _____

Data: ____/____/____

Polo: _____

1. Questão (Enem/2021)

Houve crescimento de 74% da população brasileira encarcerada entre 2005 e 2012. As análises permitiram identificar o perfil da população que está nas prisões do país: homens, jovens (abaixo de 29 anos), negro, com ensino fundamental incompleto, acusados de crimes patrimoniais, e, no caso dos presos adultos, condenados e cumprindo regime fechado, majoritariamente, com penas de 4 até 8 anos.

Neste contexto, as políticas públicas para minimizar a problemática descrita devem privilegiar a:

- a) Flexibilização do código civil
- b) Promoção da inclusão social
- c) Redução da maioridade penal
- d) Contenção da corrupção política

2. Questão (Enem/2021)

Por maioria, nós não entendemos uma quantidade relativa maior, mas a determinação de um estado ou de um padrão em relação ao qual tanto as quantidades maiores quanto as menores serão ditas minoritárias. Maioria supõe um estado de dominação. É nesse sentido que as mulheres, as crianças e também os animais são minoritários.

DELEUZE, G.: GUATTARI, F. **Mil platôs**. São Paulo: Editora 34, 212 (adaptado).

No texto, a caracterização de uma minoria decorre da existência de;

- a) Ameaças de extinção social.
- b) Políticas de incentivos estatais.
- c) Relações de natureza arbitrária.
- d) Valorizações de conexões simétricas.

☎ 0800 042 0131

📞 (83) 99861-9278

📧 @educanexus

📍 Avenida Piauí, Nº 75 – Estados
CEP 58030-330 • João Pessoa | PB

🌐 centroeducanexus.com.br

✉ contato@centroeducanexus.com.br

nosso site





3. Questão (Enem/2021)

Famoso por ser o encantador de viúvas da cidade de Cabeceiras, na Paraíba, Zé de Sila é um contador de histórias parecido com o personagem Chicó, do *Auto da Compadecida*. Ele defende veementemente que a oração da avó sustentava mais a chuva. "Quando era pequeno e chovia por aqui, ajudava minha avó colocando os pratos emborcados no terreiro para diminuir o vento. Ela fazia isso e rezava para a chuva durar mais", diz Zé de Sila.

GALDINO, V.; BARBOSA, R. C. **Artistas por um dia?** João Pessoa: Editora Universitária. 2009.

Ao destacar expressões e vivências populares do cotidiano, o texto mobiliza os seguintes aspectos da diversidade regional:

- a) Práticas místicas associadas ao patrimônio cultural.
- b) Alianças efetivas conectadas ao ritual matrimonial.
- c) Manifestações teatrais atreladas ao imaginário político.
- d) Narrativas fílmicas relacionadas às intempéries climáticas.

4. Questão (Enem/2020)

Nas últimas décadas, uma acentuada feminização no mundo do trabalho vem ocorrendo. Se a participação masculina pouco cresceu no período pós-1970, a intensificação da inserção das mulheres foi o traço marcante. Entretanto, essa presença feminina se dá mais no espaço dos empregos precários, onde a exploração, em grande medida, se encontra mais acentuada.

NOGUEIRA, C. M. As trabalhadoras do telemarketing: uma nova divisão sexual do trabalho? In: ANTUNES, R. et al. **Inforproletários: degradação real do trabalho virtual**. São Paulo; Boitempo, 2009.

A transformação descrita no texto tem sido insuficiente para o estabelecimento de uma condição de igualdade de oportunidade em virtude da(s)

- a) Estagnação de direitos adquiridos e do anacronismo da legislação vigente.
- b) Manutenção do status quo gerencial e dos padrões de socialização familiar.
- c) Desestruturação da herança patriarcal e mudanças de perfil ocupacional.
- d) Disputas na composição sindical e da presença na esfera político-partidária

5. Questão (Enem/2020)

☎ 0800 042 0131

📞 (83) 99861-9278

📧 @educanexus

📍 Avenida Piauí, Nº 75 – Estados
CEP 58030-330 • João Pessoa | PB

🌐 centroeducanexus.com.br

✉ contato@centroeducanexus.com.br

nosso site





Um dos resquícios franceses na dança são os comandos proferidos pelo marcador da quadrilha. Seu papel é anunciar os próximos passos da coreografia. O abraqueamento de termos franceses deu origem, por exemplo, ao saruê (*soirée* - reunião social noturna, ordem para todos se juntarem no centro do salão), anarriê (*en arrière* - para trás) e anavã (*en avant* - para frente)

Disponível em: www.ebc.com.br. Acesso em: 6 jul. 2015.

A característica apresentada dessa manifestação popular resulta do seguinte processo sócio-histórico.

- a) Massificação da arte erudita.
- b) Rejeição de hábitos elitistas.
- c) Apropriação de práticas estrangeiras.
- d) Laicização dos rituais religiosos.

6. Questão (Enem/2019)

A criação do Sistema Único de Saúde (SUS) como uma política para todos constitui-se uma das mais importantes conquistas da sociedade brasileira no século XX. O SUS deve ser valorizado e defendido como um marco para a cidadania e o avanço civilizatório. A democracia envolve um modelo de Estado no qual políticas protegem os cidadãos e reduzem as desigualdades. O SUS é uma diretriz que fortalece a cidadania e contribui para assegurar o exercício de direitos, o pluralismo político e o bem-estar como valores de uma sociedade fraterna, pluralista e sem preconceitos, conforme prevê a Constituição Federal de 1988.

RIZZOTO, M. L. F. et al. Justiça social, democracia com direitos sociais e saúde: a luta do Cebes. Revista Saúde em Debate, n. 116, jan-mar. 2018 (adaptado)

Segundo o texto, duas características da concepção da política pública analisada são:

- a) Paternalismo e filantropia
- b) Liberalismo e meritocracia
- c) Universalismo e igualitarismo
- d) Nacionalismo e individualismo

7. Questão (Enem/2019)

O Ministério do Trabalho e Emprego (MTE) realizou 248 ações fiscais e resgatou um total de 1590 trabalhadores da situação análoga à de escravo, em 2014, em todo país. A análise

☎ 0800 042 0131

📞 (83) 99861-9278

📧 @educanexus

📍 Avenida Piauí, Nº 75 - Estados
CEP 58030-330 • João Pessoa | PB

🌐 centroeducanexus.com.br

✉ contato@centroeducanexus.com.br





de enfrentamento do trabalho em condições análogas às de escravo materializa a efetivação de parcerias inéditas no trato da questão, podendo ser referenciadas ações fiscais realizadas com Ministério da Defesa, Exército Brasileiro, Instituto Brasileiro do Meio Ambiente e dos Recursos Naturais Renováveis (Ibama) e Instituto Chico Mendes de conservação da Biodiversidade (ICMBio).

Disponível em: <http://portal.mte.gov.br> Acesso em: 4 de fev. 2015 (adaptado).

A estratégia defendida no texto para reduzir o problema social apontado consiste em:

- a) Articular os órgãos públicos
- b) Pressionar o poder legislativo
- c) Ampliar a emissão das multas
- d) Limitar a autonomia das empresas

8. Questão (Enem/2019)

No sistema capitalista, as muitas manifestações de crise criam condições que forçam a algum tipo de racionalização. Em geral, essas crises periódicas têm o efeito de expandir a capacidade produtiva e de renovar as condições de acumulação. Podemos conceber cada crise como uma mudança do processo de acumulação para um nível novo e superior.

HARVEY, D. **A produção capitalista do espaço**. São Paulo: Annablume, 2005 (adaptado)

A condição para a inclusão dos trabalhadores no novo processo produtivo descrito no texto é a;

- a) Associação sindical.
- b) Participação eleitoral.
- c) Migração internacional.
- d) Qualificação profissional.

9. Questão (Enem/2018)

☎ 0800 042 0131

📞 (83) 99861-9278

📧 @educanexus

📍 Avenida Piauí, Nº 75 – Estados
CEP 58030-330 • João Pessoa | PB

🌐 centroeducanexus.com.br

✉ contato@centroeducanexus.com.br

nosso site





Tônico para a saúde da mulher. Disponível em: www.propagandashistoricas.com.br. Acesso em: 28 nov. 2017.

O anúncio publicitário da década de 1940 reforça os seguintes estereótipos atribuídos historicamente a uma suposta natureza feminina:

- Pudor inato e instinto maternal.
- Fragilidade física e necessidade de aceitação.
- Mentalidade fútil e conduta hedonista.
- Isolamento social e procura de autoconhecimento.

10. Questão (Enem/2018)

Texto I

☎ 0800 042 0131

📞 (83) 99861-9278

📧 @educanexus

📍 Avenida Piauí, Nº 75 – Estados
CEP 58030-330 • João Pessoa | PB

🌐 centroeducanexus.com.br

✉ contato@centroeducanexus.com.br

nosso site





Texto II

Metade da nova equipe da NASA é composta por mulheres

Até hoje, cerca de 350 astronautas americanos já estiveram no espaço, enquanto as mulheres não chegam a ser um terço desse número. Após o anúncio da turma composta 50% por mulheres, alguns internautas escreveram comentários machistas e desrespeitosos sobre a escolha nas redes sociais.

Disponível em: <https://catracalivre.com.br>. Acesso em: 10 mar. 2016.

A Comparação entre o anúncio publicitário de 1968 e a repercussão da notícia de 2016 mostra a

- Elitização da carreira científica.
- Qualificação da atividade doméstica.
- Ambição de indústrias patrocinadoras.
- Manutenção de estereótipos de gênero.

☎ 0800 042 0131

☎ (83) 99861-9278

📍 @educanexus

📍 Avenida Piauí, Nº 75 – Estados
CEP 58030-330 • João Pessoa | PB

🌐 centroeducanexus.com.br

✉ contato@centroeducanexus.com.br

nosso site

